

**Đề thi học kì 1 lớp 2 môn Toán sách Kết nối tri thức
năm học 2021 - 2022 Đề số 3**

Bản quyền thuộc về GiaiToan.

Nghiêm cấm mọi hình thức sao chép nhằm mục đích thương mại.

Đề thi học kì 1 môn Toán lớp 2 – Đề số 3

I. Phần trắc nghiệm (3 điểm)

Câu 1 (0,5 điểm): Số liền sau của số 89 là:

- A. 100 B. 95 C. 88 D. 90

Câu 2 (0,5 điểm): Số gồm 6 chục và 7 đơn vị được viết là:

- A. 67 B. 76 C. 60 D. 7

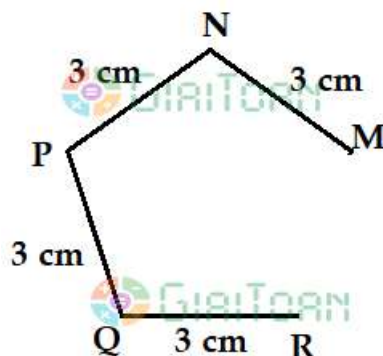
Câu 3 (0,5 điểm): Số lớn nhất trong các số 29, 60, 12, 57 là:

- A. 29 B. 12 C. 57 D. 60

Câu 4 (0,5 điểm): Kết quả của phép tính $45\text{ l} - 27\text{ l}$ là:

- A. 28 l B. 18 l C. 22 l D. 16 l

Câu 5 (0,5 điểm): Độ dài đường gấp khúc MNPQR là:



- A. 12 cm B. 14 cm C. 16 cm D. 18 cm

Câu 6 (0,5 điểm): Bốn bạn Linh, Hùng, Nga, Minh đến lớp học. Giờ học bắt đầu lúc 8 giờ. Hôm đó, thời gian đến lớp của mỗi bạn được ghi lại vào bảng dưới đây.

Tên học sinh	Linh	Hùng	Nga	Minh
Giờ tới lớp	7 giờ 35 phút	7 giờ 15 phút	8 giờ 5 phút	7 giờ 30 phút

Quan sát bảng, bạn đến muộn giờ học là bạn:

- A. Bạn Linh B. Bạn Hùng C. Bạn Nga D. Bạn Minh

II. Phần tự luận (7 điểm)

Câu 7 (2 điểm): Đặt tính rồi tính:

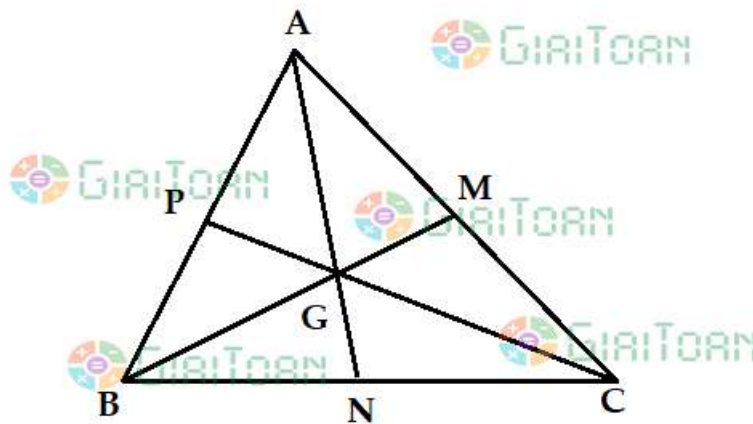
$25 + 18$

$44 - 16$

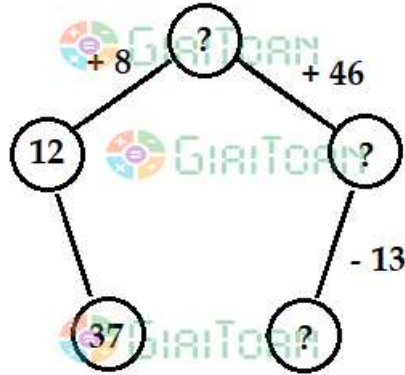
$39 + 8$

$92 - 6$

Câu 8 (1 điểm): Kể tên tất cả ba điểm thẳng hàng có trong hình dưới đây:



Câu 9 (1 điểm): Điền số thích hợp vào ô trống:



Câu 10 (2 điểm): Các em học sinh tóm tắt và giải bài toán dưới đây:

Một cửa hàng buổi sáng bán được 52 kg gạo. Buổi chiều cửa hàng bán được nhiều hơn buổi sáng 17 kg. Hỏi buổi chiều cửa hàng bán được bao nhiêu ki-lô-gam gạo?

GIAITOAN

Đáp án Đề thi học kì 1 môn Toán lớp 2 – Đề số 3**I. Phần trắc nghiệm**

Câu 1	Câu 2	Câu 3	Câu 4	Câu 5	Câu 6
D	A	B	B	A	C

II. Phần tự luận

Câu 7: Các em học sinh tự đặt phép tính rồi tính.

$25 + 18 = 43$

$44 - 16 = 28$

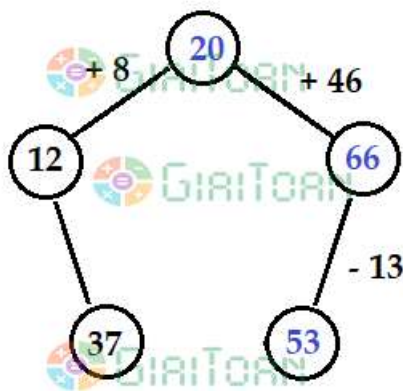
$39 + 8 = 47$

$92 - 6 = 86$

Câu 8:

- + Ba điểm A, G, N thẳng hàng.
- + Ba điểm B, G, M thẳng hàng.
- + Ba điểm C, G, P thẳng hàng.
- + Ba điểm A, P, B thẳng hàng.
- + Ba điểm A, M, C thẳng hàng.
- + Ba điểm B, N, C thẳng hàng.

Câu 9:



Câu 10:

Tóm tắt

Buổi sáng: 52 kg gạo

Buổi chiều ít hơn buổi sáng: 17 kg

Buổi chiều: ... kg gạo?

Bài giải

Số ki-lô-gam cửa hàng bán được buổi chiều là:

$$52 - 17 = 35 \text{ (kg)}$$

Đáp số: 35 kg gạo.

GIAITOAN