

**Đề thi học kì 1 lớp 2 môn Toán sách Chân trời sáng tạo
năm học 2021 - 2022 Đề số 3**

Bản quyền thuộc về GiaiToan.

Nghiêm cấm mọi hình thức sao chép nhằm mục đích thương mại.

Đề thi học kì 1 môn Toán lớp 2 – Đề số 3

I. Phần trắc nghiệm (4 điểm)

Câu 1: Số gồm 6 đơn vị và 5 chục được viết là:

- A. 56 B. 65 C. 60 D. 50

Câu 2: Số bé nhất có hai chữ số giống nhau là:

- A. 11 B. 12 C. 22 D. 33

Câu 3: Tổng giữa số lớn nhất có một chữ số với số bé nhất có hai chữ số là:

- A. 90 B. 99 C. 20 D. 19

Câu 4: Kết quả của phép tính $18\text{ cm} + 27\text{ cm}$ là:

- A. 40 cm B. 45 cm C. 50 cm D. 55 cm

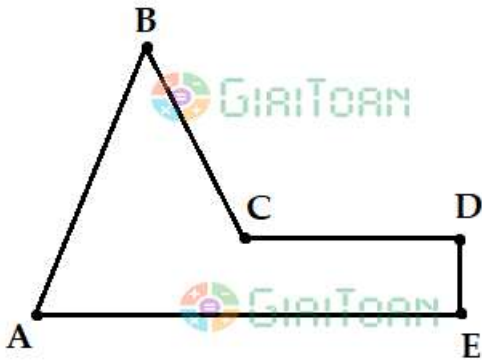
Câu 5: Số thích hợp để điền vào chỗ chấm là:

Quả dưa cân nặng ... kg.

- A. 3 kg B. 4 kg
C. 5 kg D. 6 kg



Câu 6: Số đoạn thẳng có trong hình vẽ dưới đây là:




- A. 7 đoạn thẳng
- B. 6 đoạn thẳng
- C. 5 đoạn thẳng
- D. 4 đoạn thẳng

Quan sát biểu đồ tranh sau đây và trả lời câu hỏi 7 và câu hỏi 8.

Số quả cà chua mỗi bạn hái được

Bạn	Số quả hái được
Hoa	
Lan	
Dũng	
Ngọc	

Mỗi  ứng với 1 quả

Câu 7: Bạn nào hái được nhiều quả cà chua nhất?

- A. Bạn Lan
- B. Bạn Dũng
- C. Bạn Hoa
- D. Bạn Ngọc

Câu 8: Cả 4 bạn hái được tất cả bao nhiêu quả cà chua?

- A. 14 quả
- B. 15 quả
- C. 16 quả
- D. 17 quả

II. Phần tự luận (6 điểm)

Câu 9 (2 điểm):

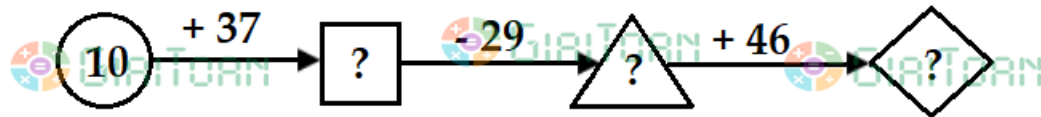
$19 + 37$

$62 - 48$

$55 + 9$

$42 - 3$

Câu 10 (1 điểm): Điền số thích hợp vào ô trống:



Câu 11 (1 điểm): Số?

$4 \text{ dm} = .?. \text{ cm}$

$60 \text{ cm} = .?. \text{ dm}$

$3 \text{ dm} = .?. \text{ cm}$

$90 \text{ cm} = .?. \text{ dm}$

Câu 12 (2 điểm): Các em học sinh tóm tắt và giải bài toán dưới đây:

Một cửa hàng buổi sáng bán được 90 kg gạo. Buổi chiều cửa hàng bán được ít hơn buổi sáng 25 kg gạo. Hỏi buổi chiều cửa hàng bán được bao nhiêu ki-lô-gam gạo?

Đáp án Đề thi học kì 1 môn Toán lớp 2 – Đề số 3
I. Phần trắc nghiệm

Câu 1	Câu 2	Câu 3	Câu 4	Câu 5	Câu 6	Câu 7	Câu 8
A	A	D	B	B	C	C	D

II. Phần tự luận

Câu 9: Học sinh tự đặt phép tính rồi tính.

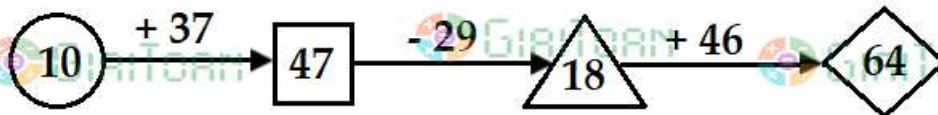
$19 + 37 = 56$

$62 - 48 = 14$

$55 + 9 = 64$

$42 - 3 = 39$

Câu 10:



Câu 11:

$4 \text{ dm} = 40 \text{ cm}$

$60 \text{ cm} = 6 \text{ dm}$

$3 \text{ dm} = 30 \text{ cm}$

$90 \text{ cm} = 9 \text{ dm}$

Câu 12:

Tóm tắt

Bài giải

Buổi sáng: 90 kg

Buổi chiều bán được số ki-lô-gam gạo là:

Buổi chiều ít hơn buổi sáng: 25 kg

$90 - 25 = 65 \text{ (kg)}$

Buổi chiều: ... kg?

Đáp số: 65 kg gạo.