

Đề thi học kì 1 lớp 1 môn Toán sách Cánh Diều**năm học 2021 - 2022 Đề số 5***Bản quyền thuộc về GiaiToan**Nghiêm cấm mọi hình thức sao chép nhằm mục đích thương mại.***Đề thi học kì 1 môn Toán lớp 1 – Đề số 5****Câu 1 (2 điểm): Khoanh vào số thích hợp:**

6 7 5



10 8 9



8 7 9



6 9 8

Câu 2 (2 điểm):a) $>$, $<$, $=$?

$5 \square 4$

$3 \square 3$

$2 \square 6$

$10 \square 0$

$7 \square 7$

$8 \square 9$

b) Viết các số 10, 0, 3, 6 theo thứ tự từ lớn đến bé.

Câu 3 (2 điểm): Tính nhẩm:

$1 + 2 = \dots$

$5 + 4 = \dots$

$3 + 3 = \dots$

$7 + 0 = \dots$

$7 - 4 = \dots$

$9 - 3 = \dots$

$8 - 1 = \dots$

$6 - 0 = \dots$

Câu 4 (2 điểm): Số?

a) Hình bên có:

hình tròn

hình vuông

hình tam giác

hình chữ nhật



b)

Hình A có:

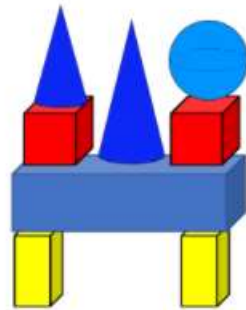
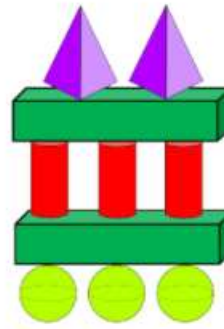
khối hộp chữ nhật

khối lập phương

Hình B có:

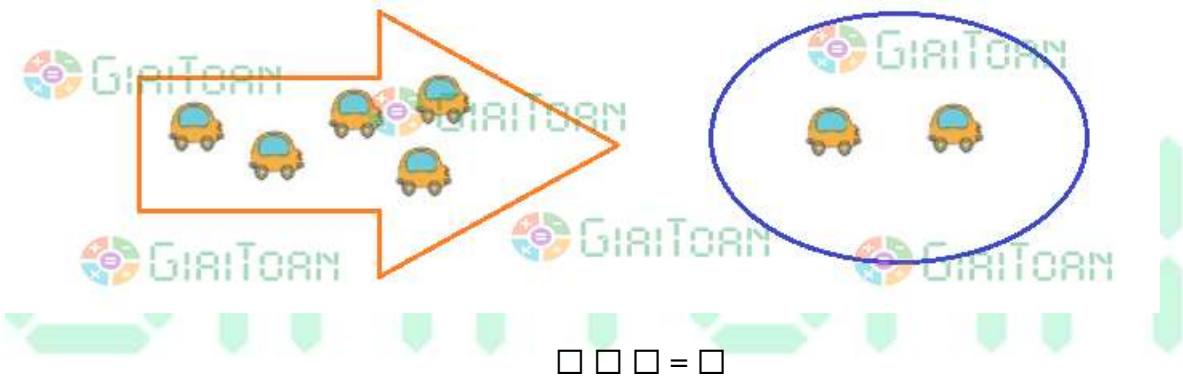
khối hộp chữ nhật

khối lập phương

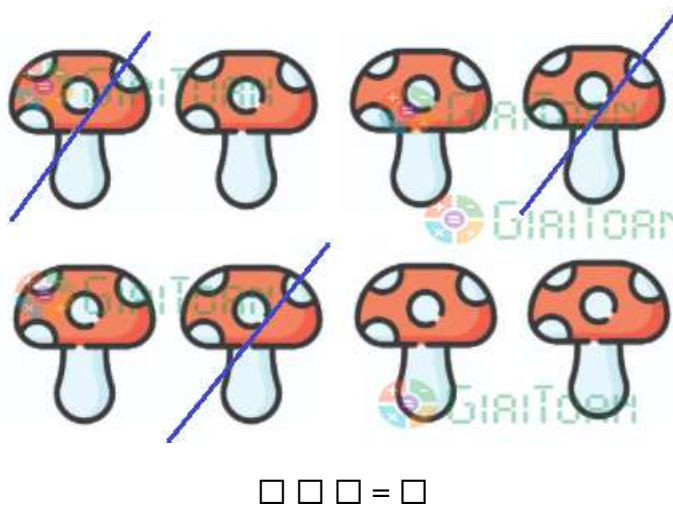

Hình A

Hình B

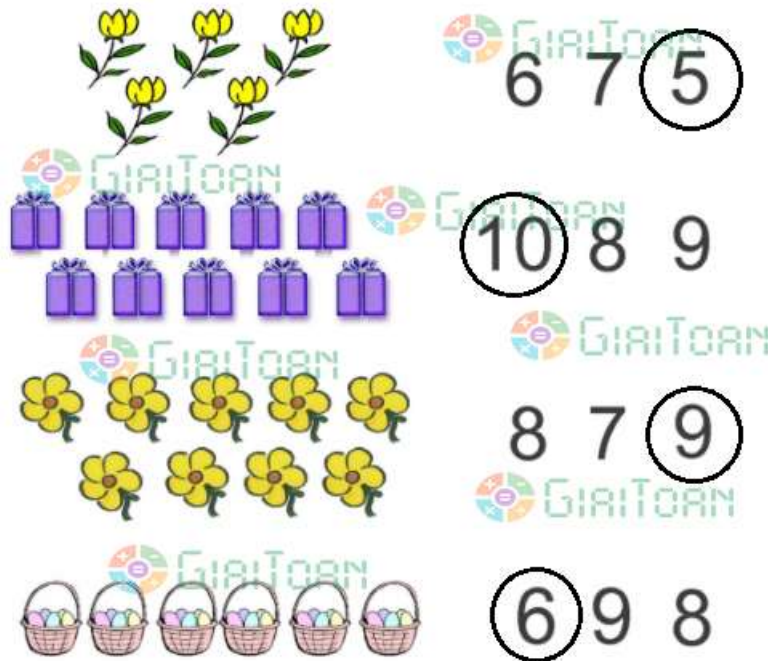
Câu 5 (2 điểm): Viết phép tính thích hợp với mỗi tranh vẽ:

a)



b)



Đáp án Đề thi học kì 1 môn Toán lớp 1 – Đề số 5
Câu 1:

Câu 2:

a)

$5 > 4$

$3 = 3$

$2 < 6$

$10 > 0$

$7 = 7$

$8 < 9$

b) Viết các số theo thứ tự từ lớn đến bé được: 10, 6, 3, 0.

Câu 3:

$1 + 2 = 3$

$5 + 4 = 9$

$3 + 3 = 6$

$7 + 0 = 7$

$7 - 4 = 3$

$9 - 3 = 6$

$8 - 1 = 7$

$6 - 0 = 6$

Câu 4:

a) Hình bên có:

4 hình tròn

2 hình vuông

2 hình tam giác

1 hình chữ nhật

b)

Hình A có:

3 khối hộp chữ nhật

2 khối lập phương

Hình B có:

2 khối hộp chữ nhật

0 khối lập phương

Câu 5:

a) $5 + 2 = 7$

b) $8 - 3 = 5$

GIAITOAN