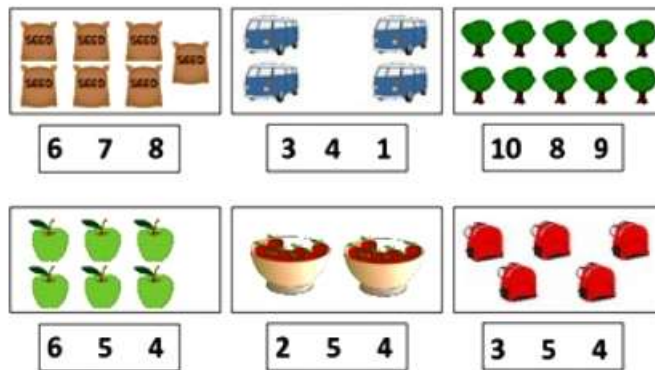


Đề thi học kì 1 lớp 1 môn Toán sách Kết nối**năm học 2020 - 2021 Đề số 4***Bản quyền thuộc về GiaiToan.**Nghiêm cấm mọi hình thức sao chép nhằm mục đích thương mại.***Đề thi học kì 1 môn Toán lớp 1 – Đề số 4****Bài 1 (2 điểm):** Khoanh vào số thích hợp:**Bài 2 (2 điểm):** Tính nhẩm:

$3 + 6 = \dots$

$5 - 2 = \dots$

$4 + 2 = \dots$

$8 - 7 = \dots$

$2 + 8 = \dots$

$10 - 6 = \dots$

$2 + 2 = \dots$

$3 - 1 = \dots$

Bài 3 (3 điểm):

a) Cho các số 5, 1, 6. Sắp xếp các số theo thứ tự từ bé đến lớn.

b) Điền dấu $<$, $>$, $=$ thích hợp vào chỗ chấm:

$2 + 2 \dots 5$

$9 - 3 \dots 4$

$1 + 3 \dots 2 + 2$

$8 - 6 \dots 5 - 3$

Bài 4 (2 điểm): Điền số thích hợp vào chỗ chấm:


Trên hình vẽ có:

....hình chữ nhật


....hình vuông

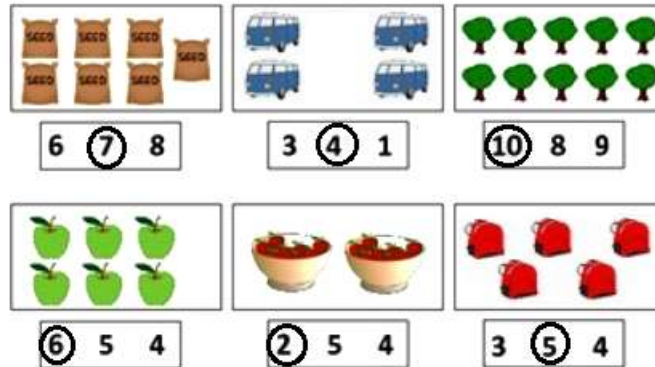
....hình tròn

....hình tam giác



Bài 5 (1 điểm): Dựa vào hình vẽ, viết phép tính thích hợp:



Đáp án Đề thi học kì 1 môn Toán lớp 1 – Đề số 4
Bài 1:

Bài 2:

$3 + 6 = 9$

$5 - 2 = 3$

$4 + 2 = 6$

$8 - 7 = 1$

$2 + 8 = 10$

$10 - 6 = 4$

$2 + 2 = 4$

$3 - 1 = 2$

Bài 3:

a) Sắp xếp: 1, 5, 6.

b)

$2 + 2 < 5$

$9 - 3 > 4$

$1 + 3 = 2 + 2$

$8 - 6 = 5 - 3$

Bài 4:

Trên hình vẽ có: 4 hình chữ nhật; 7 hình vuông; 7 hình tròn; 4 hình tam giác.

Bài 5:

 Phép tính thích hợp: $3 + 3 = 6$