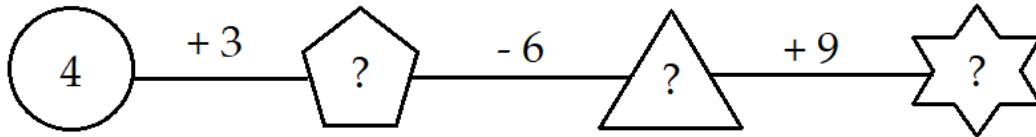


Đề thi học kì 1 lớp 1 môn Toán sách Kết nối**năm học 2020 - 2021 Đề số 3***Bản quyền thuộc về GiaiToan.**Nghiêm cấm mọi hình thức sao chép nhằm mục đích thương mại.***Đề thi học kì 1 môn Toán lớp 1 – Đề số 3****Bài 1 (2 điểm):** Điền số thích hợp vào ô trống:**Bài 2 (2 điểm):** Dựa vào hình vẽ, viết phép tính thích hợp và tính:

a)




b)



c)



d)



Bài 3 (3 điểm): Cho các số 2, 6, 9

- a) Sắp xếp các số đó theo thứ tự từ lớn đến bé.
- b) Trong các số đó, số nào lớn nhất, số nào bé nhất?
- c) Trong các số đó, số nào vừa lớn hơn 7, vừa bé hơn 10?

Bài 4 (2 điểm): Điền số thích hợp vào chỗ chấm:

Trên hình vẽ có:

.....khối lập phương

.....khối hộp chữ nhật



Bài 5 (1 điểm): Tìm hình thích hợp để đặt vào dấu “?”.



A.

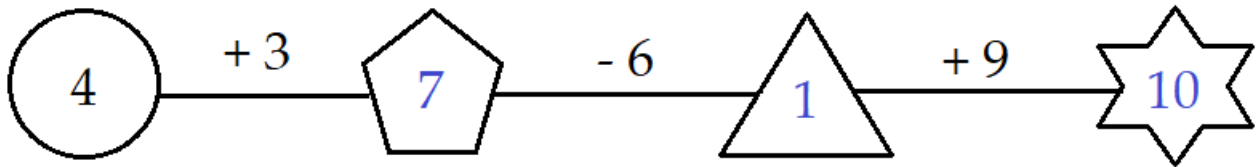


B.



C.



Đáp án Đề thi học kì 1 môn Toán lớp 1 – Đề số 3**Bài 1:****Bài 2:**

a) $5 + 4 = 9$

b) $8 - 6 = 2$

c) $6 + 3 = 9$

d) $7 - 3 = 4$

Bài 3:

a) Sắp xếp: 9, 6, 2

b) Trong các số đó, số 9 là số lớn nhất, số 2 là số bé nhất.

c) Trong các số đó, số vừa lớn hơn 7, vừa bé hơn 10 là số 9.

Bài 4:

Trên hình vẽ có: 5 khối lập phương và 7 khối hộp chữ nhật.

Bài 5:

Hình thích hợp để điền vào dấu “?” là hình A.