


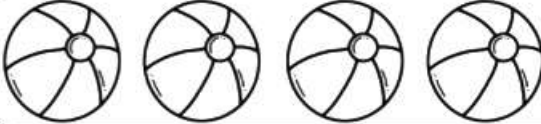



Đề thi học kì 1 lớp 1 môn Toán sách Kết nối**năm học 2020 - 2021 Đề số 1***Bản quyền thuộc về GiaiToan.**Nghiêm cấm mọi hình thức sao chép nhằm mục đích thương mại.***Đề thi học kì 1 môn Toán lớp 1 – Đề số 1****Bài 1 (2 điểm):** Điền số thích hợp vào ô trống:

	<input type="text"/>
	<input type="text"/>
	<input type="text"/>
	<input type="text"/>
	<input type="text"/>

Bài 2 (2 điểm): Tính nhẩm:

$3 + 2 = \dots$

$1 + 7 = \dots$

$6 + 3 = \dots$

$9 + 0 = \dots$

$8 - 3 = \dots$

$7 - 5 = \dots$

$10 - 6 = \dots$

$3 - 1 = \dots$

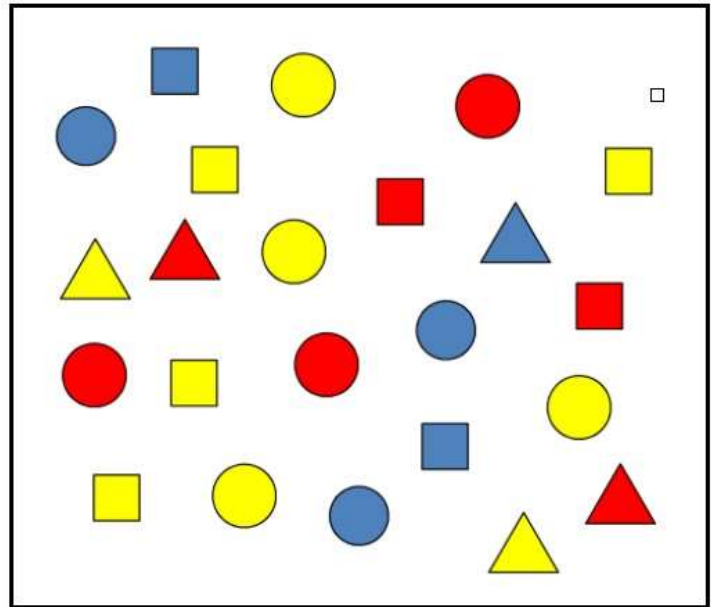
Bài 3 (2 điểm): Điền số thích hợp vào chỗ chấm:

Hình bên có:

.....hình tam giác

.....hình tròn

.....hình vuông



Bài 4 (2 điểm): Viết dấu +, - vào chỗ chấm để có các phép tính đúng:

1 1 = 2

5 ... 3 = 2

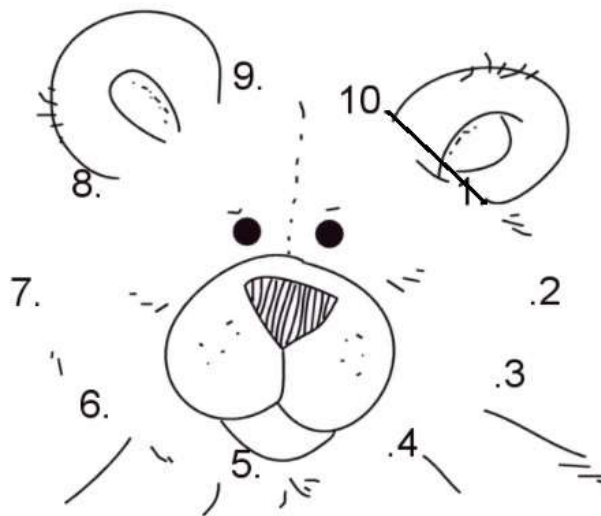
2 ... 4 = 6

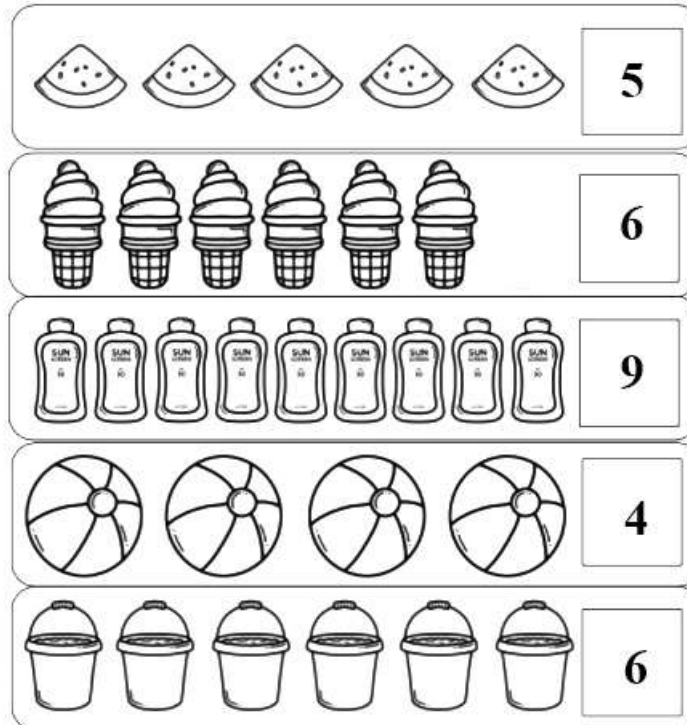
7 ... 4 = 3

2 7 = 9

8 4 = 4

Bài 5 (2 điểm): Nối các số theo thứ tự từ 1 đến 10 sau đó tô màu để hoàn thiện bức tranh dưới đây:



Đáp án Đề thi học kì 1 môn Toán lớp 1 – Đề số 1
Bài 1:

Bài 2:

$3 + 2 = 5$

$1 + 7 = 8$

$6 + 3 = 9$

$9 + 0 = 9$

$8 - 3 = 5$

$7 - 5 = 2$

$10 - 6 = 4$

$3 - 1 = 2$

Bài 3:

Hình bên có: 5 hình tam giác, 10 hình tròn, 8 hình vuông.

Bài 4:

$1 + 1 = 2$

$5 - 3 = 2$

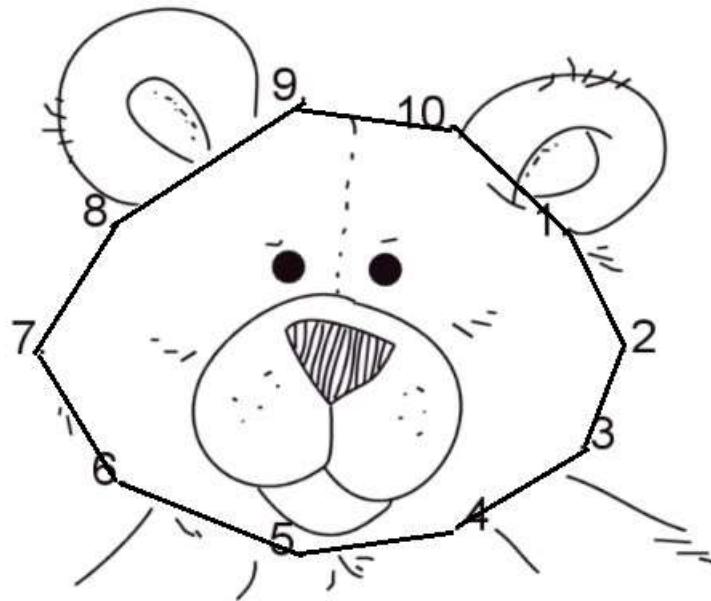
$2 + 4 = 6$

$7 - 4 = 3$

$2 + 7 = 9$

$8 - 4 = 4$

Bài 5:



GIAITOAN