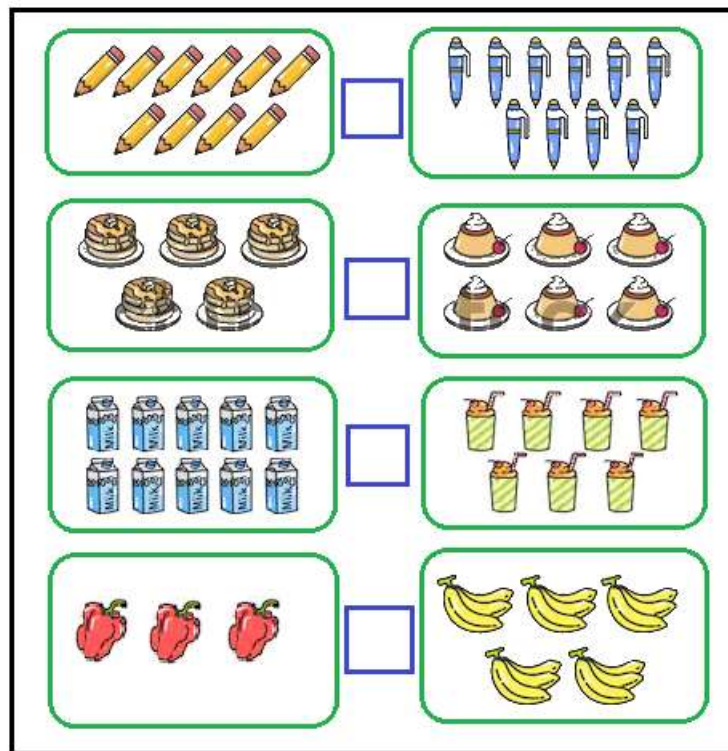






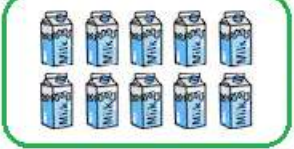



Đề thi học kì 1 lớp 1 môn Toán sách Cánh Diều

năm học 2020 - 2021 Đề số 4

*Bản quyền thuộc về GiaiToan.**Nghiêm cấm mọi hình thức sao chép nhằm mục đích thương mại.*


Đề thi học kì 1 môn Toán lớp 1 – Đề số 4

Bài 1 (2 điểm): Điền dấu $<$, $>$, $=$ thích hợp vào ô trống:

	<input type="text"/>	
	<input type="text"/>	
	<input type="text"/>	
	<input type="text"/>	

Bài 2 (3 điểm): Dựa vào hình vẽ, viết phép tính thích hợp và tính:

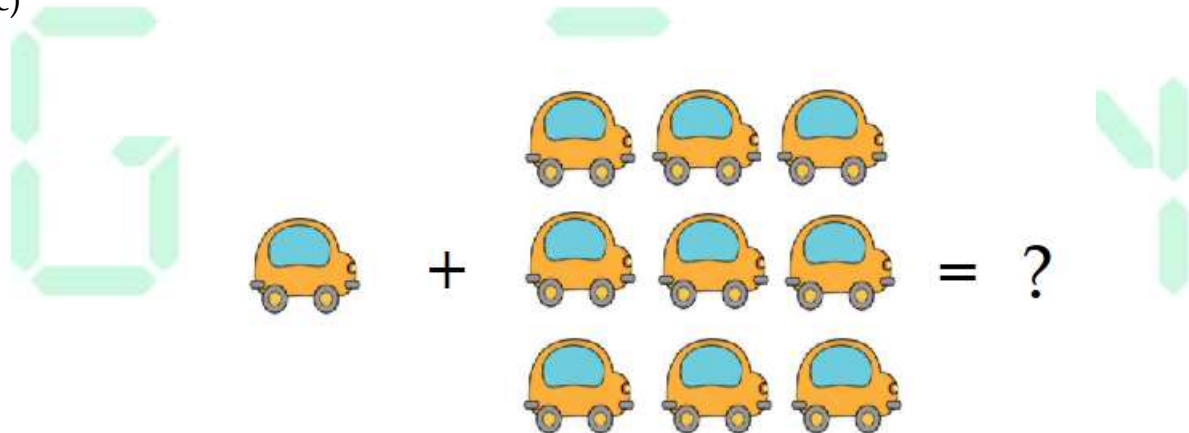
a)



b)



c)



Bài 3 (2 điểm): Cho các số 4, 2, 7, 9. Hãy:

a) Sắp xếp các số theo thứ tự từ bé đến lớn.

b) Sắp xếp các số theo thứ tự từ lớn đến bé.

Bài 4 (2 điểm): Điền số thích hợp vào chỗ chấm:

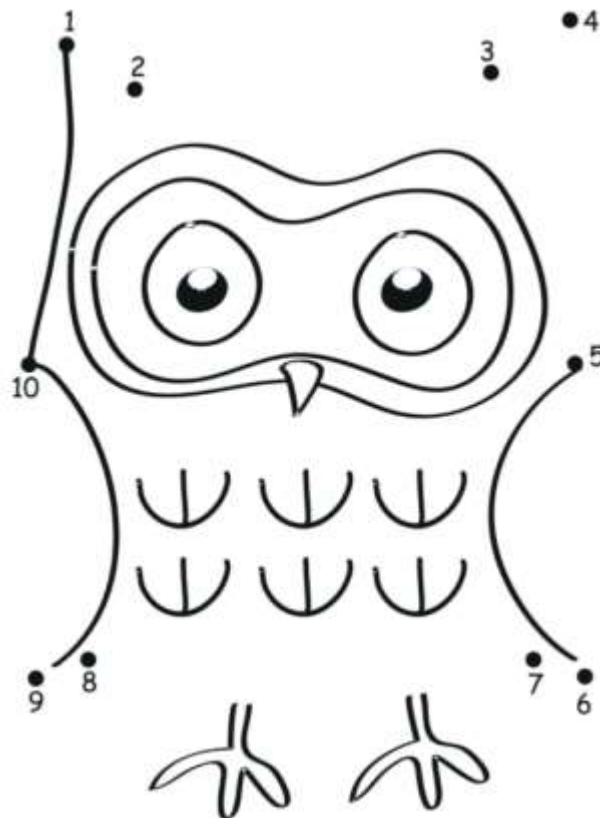
Hình bên có:

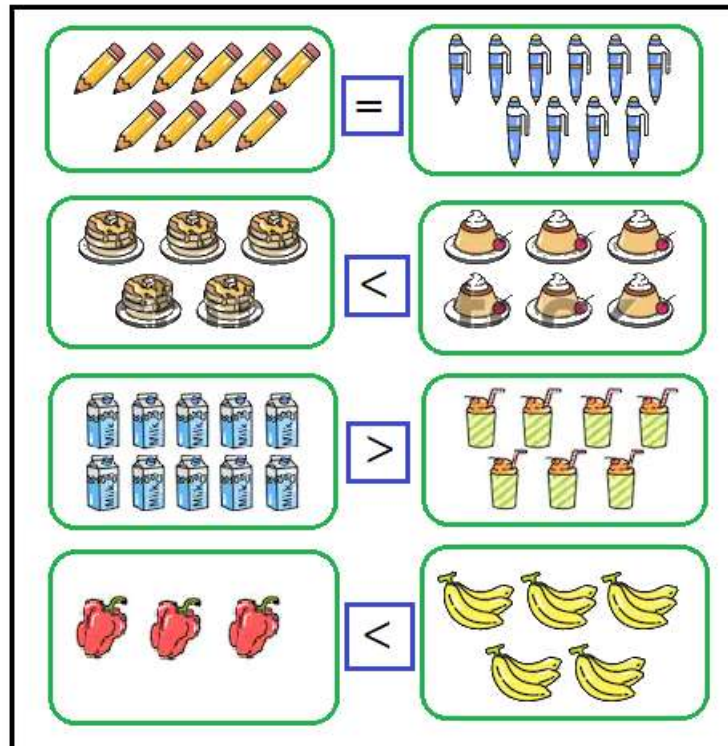
....khối hình lập phương

....khối hộp chữ nhật



Bài 5 (1 điểm): Nối các số từ 1 đến 10 để hoàn thiện bức tranh:



Đáp án Đề thi học kì 1 môn Toán lớp 1 – Đề số 4
Bài 1:

Bài 2:

- a) $5 + 2 = 7$
- b) $4 - 2 = 2$
- c) $1 + 9 = 10$


Bài 3:

- a) Sắp xếp các số theo thứ tự từ bé đến lớn: 2, 4, 7, 9.
- b) Sắp xếp các số theo thứ tự từ lớn đến bé: 9, 7, 4, 2.

Bài 4:

Hình bên có: 7 khối hình lập phương và 5 khối hộp chữ nhật.

Bài 5:



GIAITOAN