

Đề thi học kì 1 lớp 1 môn Toán sách Cánh Diều
năm học 2020 - 2021 Đề số 2

Bản quyền thuộc về GiaiToan.

Nghiêm cấm mọi hình thức sao chép nhằm mục đích thương mại.

Đề thi học kì 1 môn Toán lớp 1 – Đề số 2

Bài 1 (2 điểm): Điền dấu $<$, $>$, $=$ thích hợp vào chỗ chấm:

$3 \dots 7$

$6 \dots 2$

$4 \dots 4$

$1 + 2 \dots 4 - 2$

$3 + 5 \dots 9 - 4$

$3 + 1 \dots 5 + 2$

Bài 2 (2 điểm): Tính:

$2 + 5 = \dots$

$3 + 4 = \dots$

$1 + 1 = \dots$

$6 + 2 = \dots$









$9 - 3 = \dots$

$8 - 5 = \dots$

$7 - 1 = \dots$

$6 - 4 = \dots$

Bài 3 (3 điểm): Điền số thích hợp vào ô trống:

	$+$		$=$	<input style="width: 100%;" type="text"/>
<input style="width: 100%;" type="text"/>		<input style="width: 100%;" type="text"/>		<input style="width: 100%;" type="text"/>
	$+$		$=$	<input style="width: 100%;" type="text"/>
<input style="width: 100%;" type="text"/>		<input style="width: 100%;" type="text"/>		<input style="width: 100%;" type="text"/>
	$-$		$=$	<input style="width: 100%;" type="text"/>
<input style="width: 100%;" type="text"/>		<input style="width: 100%;" type="text"/>		<input style="width: 100%;" type="text"/>
	$-$		$=$	<input style="width: 100%;" type="text"/>
<input style="width: 100%;" type="text"/>		<input style="width: 100%;" type="text"/>		<input style="width: 100%;" type="text"/>

Bài 4 (2 điểm): Viết dấu +, - vào chỗ chấm để có các phép tính đúng:

$1 \dots 1 = 2$

$5 \dots 3 = 2$

$1 \dots 7 = 8$

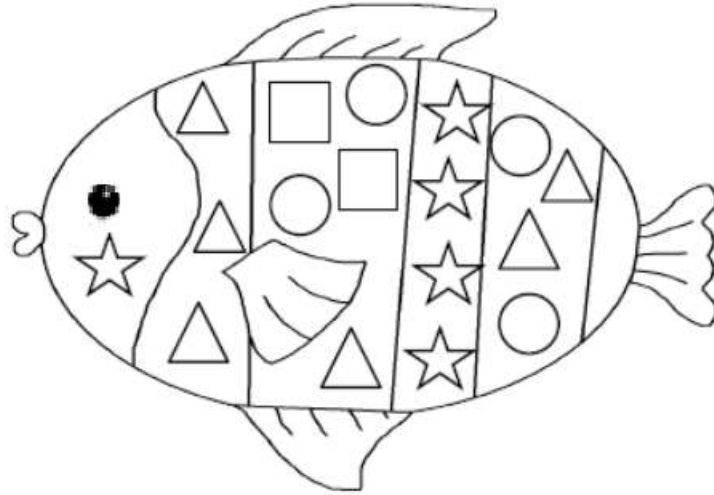
$5 \dots 4 = 1$

$5 \dots 4 = 9$

$6 \dots 2 = 4$

Bài 5 (1 điểm): Điền số thích hợp vào chỗ chấm:

Trong hình vẽ, cóhình tròn vàhình tam giác.



GIAITOAN

Đáp án Đề thi học kì 1 môn Toán lớp 1 – Đề số 2**Bài 1:**

$3 < 7$

$6 > 2$

$4 = 4$

$1 + 2 > 4 - 2$

$3 + 5 > 9 - 4$

$3 + 1 < 5 + 2$

Bài 2:

$2 + 5 = 7$

$3 + 4 = 7$

$1 + 1 = 2$

$6 + 2 = 8$

$9 - 3 = 6$









$8 - 5 = 3$

$7 - 1 = 6$

$6 - 4 = 2$

Bài 3:

GIAITOAN

 <div style="border: 1px solid black; padding: 2px; width: 40px; margin: 0 auto;">4</div>	+	 <div style="border: 1px solid black; padding: 2px; width: 40px; margin: 0 auto;">3</div>	=	<div style="border: 1px solid black; padding: 2px; width: 40px; margin: 0 auto;">7</div>
 <div style="border: 1px solid black; padding: 2px; width: 40px; margin: 0 auto;">5</div>	+	 <div style="border: 1px solid black; padding: 2px; width: 40px; margin: 0 auto;">1</div>	=	<div style="border: 1px solid black; padding: 2px; width: 40px; margin: 0 auto;">6</div>
 <div style="border: 1px solid black; padding: 2px; width: 40px; margin: 0 auto;">6</div>	-	 <div style="border: 1px solid black; padding: 2px; width: 40px; margin: 0 auto;">4</div>	=	<div style="border: 1px solid black; padding: 2px; width: 40px; margin: 0 auto;">2</div>
 <div style="border: 1px solid black; padding: 2px; width: 40px; margin: 0 auto;">8</div>	-	 <div style="border: 1px solid black; padding: 2px; width: 40px; margin: 0 auto;">4</div>	=	<div style="border: 1px solid black; padding: 2px; width: 40px; margin: 0 auto;">4</div>

Bài 4:

$1 + 1 = 2$

$5 - 3 = 2$

$1 + 7 = 8$

$5 - 4 = 1$

$5 + 4 = 9$

$6 - 2 = 4$

Bài 5:

Trong hình vẽ, có 5 hình tròn và 6 hình tam giác.