







**Đề thi học kì 1 lớp 1 môn Toán sách Cánh Diều****năm học 2020 - 2021 Đề số 1***Bản quyền thuộc về GiaiToan**Nghiêm cấm mọi hình thức sao chép nhằm mục đích thương mại.***Đề thi học kì 1 môn Toán lớp 1 – Đề số 1****Bài 1 (2 điểm):** Điền số thích hợp vào ô trống:

	
<input type="text"/>	<input type="text"/>
	
<input type="text"/>	<input type="text"/>
	
<input type="text"/>	<input type="text"/>

**Bài 2 (2 điểm):** Tính:

$4 + 2 = \dots$

$6 - 5 = \dots$

$2 + 7 = \dots$

$10 - 0 = \dots$

$6 + 1 = \dots$

$9 - 5 = \dots$

$2 + 5 = \dots$

$4 + 4 = \dots$


**Bài 3 (2 điểm):** Điền số thích hợp vào chỗ chấm:

Hình bên có:

...hình chữ nhật

...hình tròn

...hình vuông



**Bài 4 (2 điểm):** Viết dấu +, - vào chỗ chấm để có các phép tính đúng:

$2 \dots 3 = 5$

$7 \dots 4 = 3$

$2 \dots 2 = 4$

$1 \dots 7 = 8$

$9 \dots 2 = 7$

$5 \dots 1 = 6$

**Bài 5 (2 điểm):** Nối phép tính thích hợp vào ô trống:

$1 + 2$

$7 - 3$

$4 + 5$

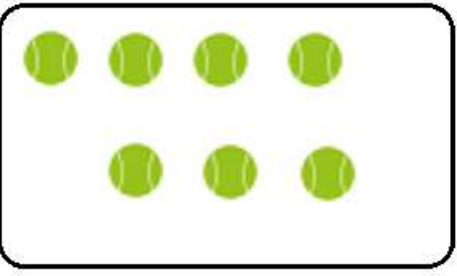
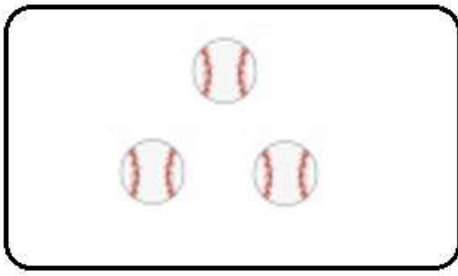

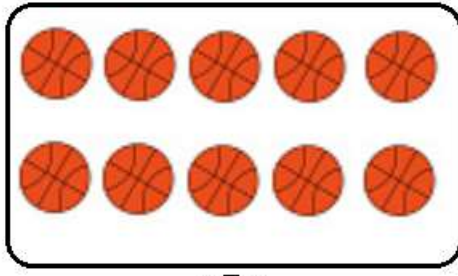
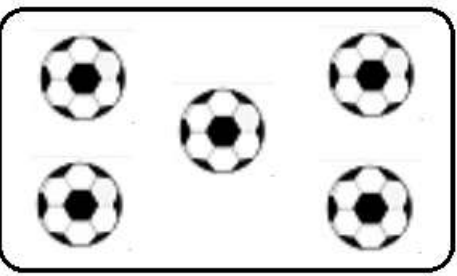
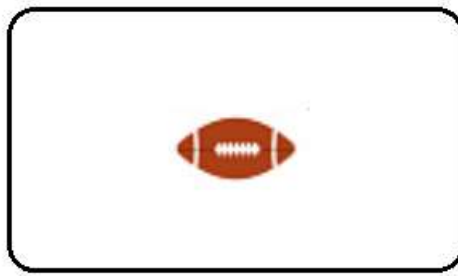
$2 + 6$

$10 - 0$

$8 < \square < 10$

GIAITOAN

**Đáp án Đề thi học kì 1 môn Toán lớp 1 – Đề số 1**
**Bài 1:**

	
( 7 )	( 3 )
	
( 2 )	( 10 )
	
( 5 )	( 1 )

**Bài 2:**

$4 + 2 = 6$

$6 - 5 = 1$

$2 + 7 = 9$

$10 - 0 = 10$

$6 + 1 = 7$

$9 - 5 = 4$

$2 + 5 = 7$

$4 + 4 = 8$

**Bài 3:**

Hình bên có: 10 hình chữ nhật; 5 hình tròn; 7 hình vuông

**Bài 4:**

$2 + 3 = 5$

$7 - 4 = 3$

$2 + 2 = 4$

$1 + 7 = 8$

$9 - 2 = 7$

$5 + 1 = 6$

**Bài 5:**

1 + 2      7 - 3      4 + 5      2 + 6      10 - 0

8 <  < 10

