


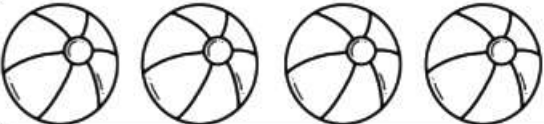



Bộ đề thi học kì 1 lớp 1 môn Toán sách Kết nối năm học 2020 - 2021*Bản quyền thuộc về GiaiToan.**Nghiêm cấm mọi hình thức sao chép nhằm mục đích thương mại.***Đề thi học kì 1 môn Toán lớp 1 – Đề số 1****Bài 1 (2 điểm):** Điền số thích hợp vào ô trống:

	<input type="text"/>
	<input type="text"/>
	<input type="text"/>
	<input type="text"/>
	<input type="text"/>

Bài 2 (2 điểm): Tính nhẩm:

$3 + 2 = \dots$

$1 + 7 = \dots$

$6 + 3 = \dots$

$9 + 0 = \dots$

$8 - 3 = \dots$

$7 - 5 = \dots$

$10 - 6 = \dots$

$3 - 1 = \dots$

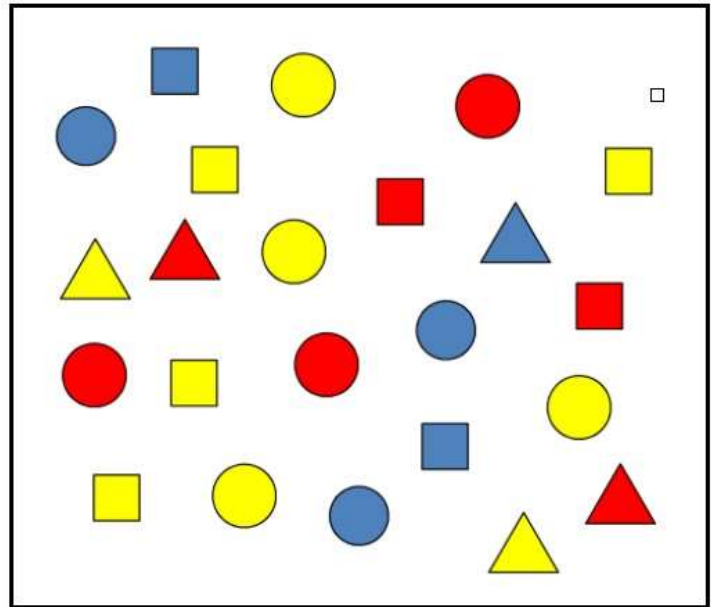
Bài 3 (2 điểm): Điền số thích hợp vào chỗ chấm:

Hình bên có:

.....hình tam giác

.....hình tròn

.....hình vuông



Bài 4 (2 điểm): Viết dấu +, - vào chỗ chấm để có các phép tính đúng:

1 1 = 2

5 ... 3 = 2

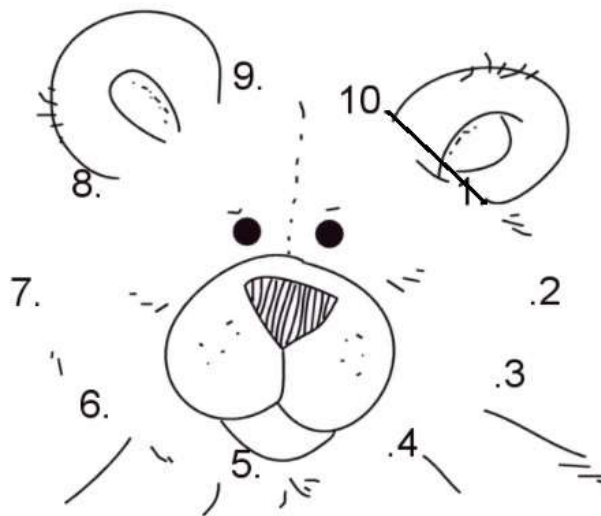
2 ... 4 = 6

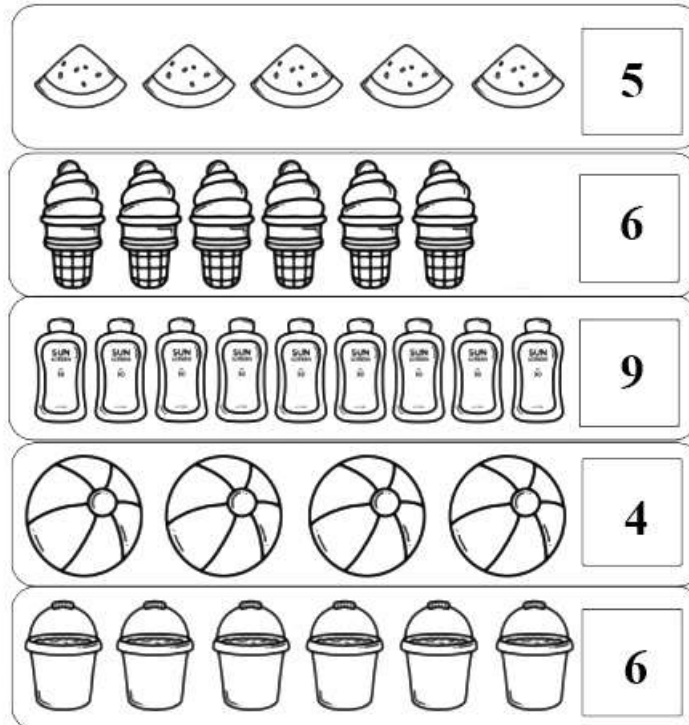
7 ... 4 = 3

2 7 = 9

8 4 = 4

Bài 5 (2 điểm): Nối các số theo thứ tự từ 1 đến 10 sau đó tô màu để hoàn thiện bức tranh dưới đây:



Đáp án Đề thi học kì 1 môn Toán lớp 1 – Đề số 1**Bài 1:****Bài 2:**

$3 + 2 = 5$

$1 + 7 = 8$

$6 + 3 = 9$

$9 + 0 = 9$

$8 - 3 = 5$

$7 - 5 = 2$

$10 - 6 = 4$

$3 - 1 = 2$

Bài 3:

Hình bên có: 5 hình tam giác, 10 hình tròn, 8 hình vuông.

Bài 4:

$1 + 1 = 2$

$5 - 3 = 2$

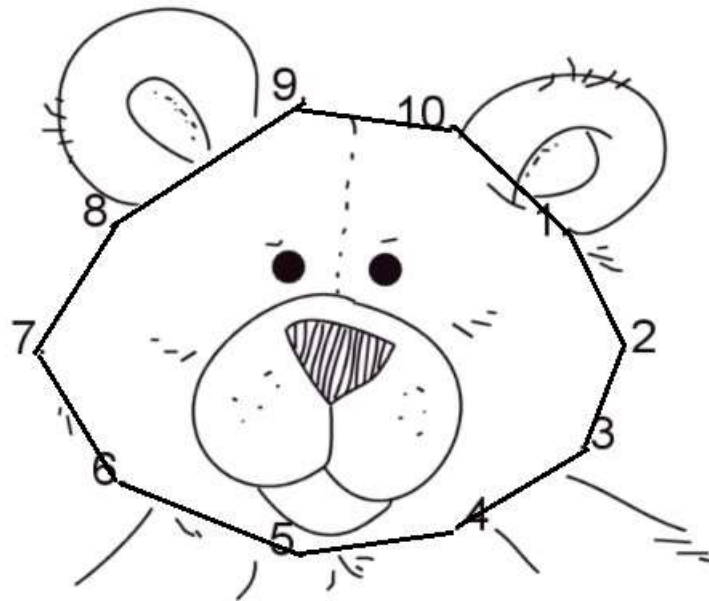
$2 + 4 = 6$

$7 - 4 = 3$

$2 + 7 = 9$

$8 - 4 = 4$

Bài 5:



GIAITOAN

Đề thi học kì 1 lớp 1 môn Toán sách Kết nối










năm học 2020 - 2021 Đề số 2

Bản quyền thuộc về GiaiToan.

Nghiêm cấm mọi hình thức sao chép nhằm mục đích thương mại.

Đề thi học kì 1 môn Toán lớp 1 – Đề số 2

Bài 1 (2 điểm): Khoanh vào số thích hợp:

 4 5 6	 3 2 1	 7 8 9
 7 6 9	 3 4 5	 8 9 10
 6 8 9	 2 3 1	 9 6 8

Bài 2 (2 điểm): Tính nhẩm:

$9 - 6 = \dots$

$1 + 2 = \dots$

$3 + 4 = \dots$

$5 - 2 = \dots$

$2 + 7 = \dots$

$7 - 6 = \dots$

$6 + 2 = \dots$

$10 - 5 = \dots$

Bài 3 (3 điểm): Cho các số 3, 6, 9:

a) Sắp xếp các số đó theo thứ tự từ bé đến lớn.

b) Trong các số đó, số nào lớn nhất, số nào bé nhất?

c) Trong các số đó, những số nào vừa lớn hơn 5, vừa bé hơn 8?

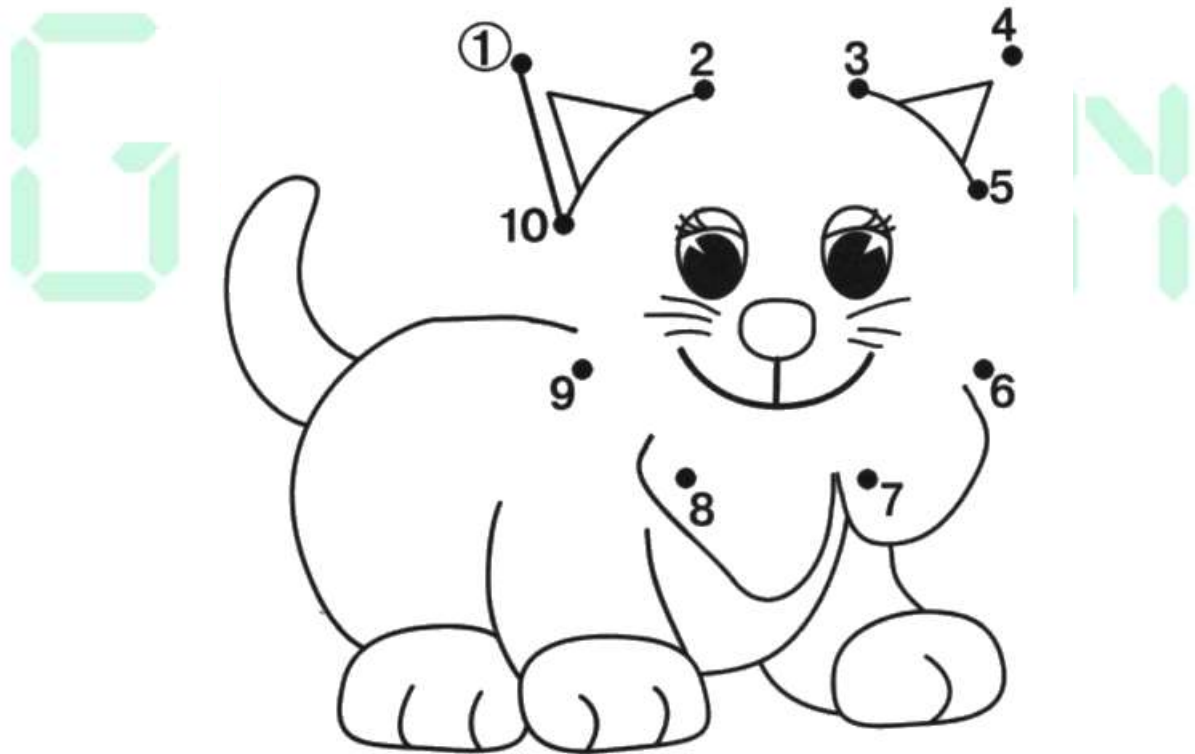
Bài 4 (1 điểm): Điền dấu $<$, $>$, $=$ thích hợp vào chỗ chấm:

$2 + 3 \dots 6$










$8 - 2 \dots 5$

$1 + 3 \dots 4$

Bài 5 (2 điểm): Nối các số từ 1 tới 10 sau đó tô màu để hoàn thiện bức tranh:



Đáp án Đề thi học kì 1 môn Toán lớp 1 – Đề số 2
Bài 1:

 4 (5) 6	 (3) 2 1	 7 8 (9)
 (7) 6 9	 3 (4) 5	 8 9 (10)
 6 (8) 9	 (2) 3 1	 9 (6) 8

Bài 2:

$9 - 6 = 3$

$1 + 2 = 3$

$3 + 4 = 7$

$5 - 2 = 3$

$2 + 7 = 9$

$7 - 6 = 1$

$6 + 2 = 8$

$10 - 5 = 5$

Bài 3:

a) Sắp xếp: 3, 6, 9.

b) Trong các số đó, số 9 là số lớn nhất, số 3 là số bé nhất.

c) Trong các số đó, số vừa lớn hơn 5, vừa bé hơn 8 là số 6.

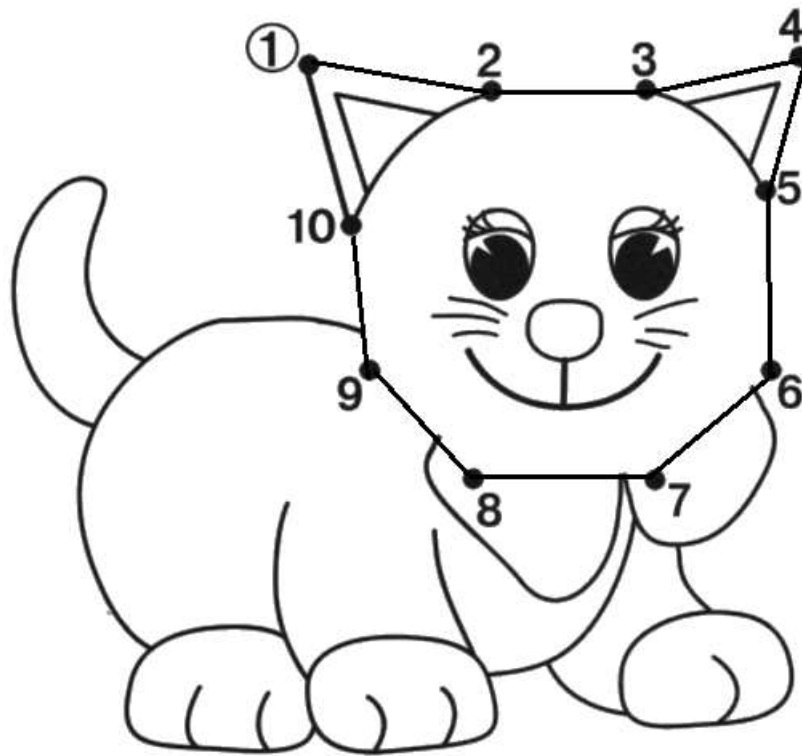
Bài 4:

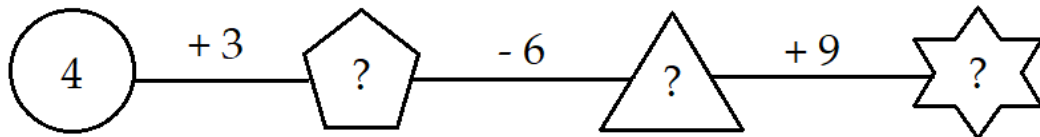
$2 + 3 < 6$

$8 - 2 > 5$

$1 + 3 = 4$

Bài 5:



Đề thi học kì 1 lớp 1 môn Toán sách Kết nối**năm học 2020 - 2021 Đề số 3***Bản quyền thuộc về GiaiToan.**Nghiêm cấm mọi hình thức sao chép nhằm mục đích thương mại.***Đề thi học kì 1 môn Toán lớp 1 – Đề số 3****Bài 1 (2 điểm):** Điền số thích hợp vào ô trống:**Bài 2 (2 điểm):** Dựa vào hình vẽ, viết phép tính thích hợp và tính:

a)




b)



c)



d)



Bài 3 (3 điểm): Cho các số 2, 6, 9

- Sắp xếp các số đó theo thứ tự từ lớn đến bé.
- Trong các số đó, số nào lớn nhất, số nào bé nhất?
- Trong các số đó, số nào vừa lớn hơn 7, vừa bé hơn 10?

Bài 4 (2 điểm): Điền số thích hợp vào chỗ chấm:

Trên hình vẽ có:

.....khối lập phương

.....khối hộp chữ nhật



Bài 5 (1 điểm): Tìm hình thích hợp để đặt vào dấu “?”.



A.

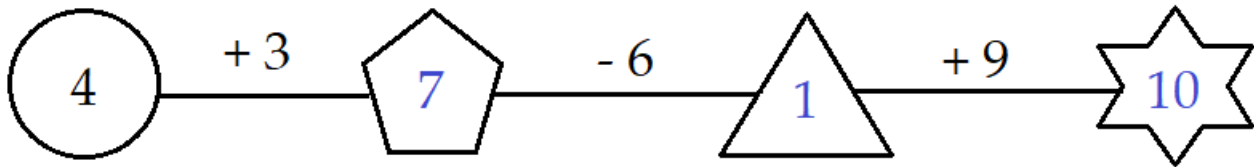


B.



C.



Đáp án Đề thi học kì 1 môn Toán lớp 1 – Đề số 3**Bài 1:****Bài 2:**

a) $5 + 4 = 9$

b) $8 - 6 = 2$

c) $6 + 3 = 9$

d) $7 - 3 = 4$

Bài 3:

a) Sắp xếp: 9, 6, 2

b) Trong các số đó, số 9 là số lớn nhất, số 2 là số bé nhất.

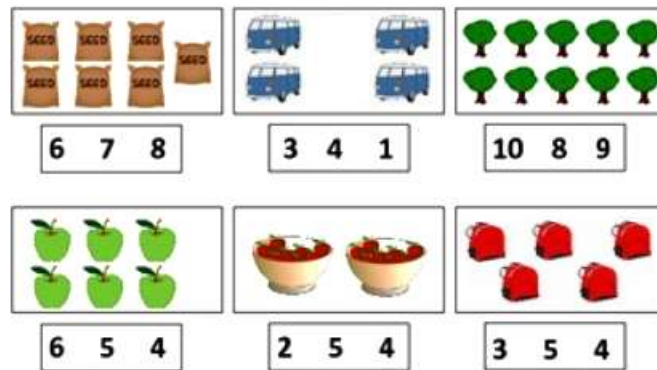
c) Trong các số đó, số vừa lớn hơn 7, vừa bé hơn 10 là số 9.

Bài 4:

Trên hình vẽ có: 5 khối lập phương và 7 khối hộp chữ nhật.

Bài 5:

Hình thích hợp để điền vào dấu “?” là hình A.

Đề thi học kì 1 lớp 1 môn Toán sách Kết nối**năm học 2020 - 2021 Đề số 4***Bản quyền thuộc về GiaiToan.**Nghiêm cấm mọi hình thức sao chép nhằm mục đích thương mại.***Đề thi học kì 1 môn Toán lớp 1 – Đề số 4****Bài 1 (2 điểm):** Khoanh vào số thích hợp:**Bài 2 (2 điểm):** Tính nhẩm:

$3 + 6 = \dots$

$5 - 2 = \dots$

$4 + 2 = \dots$

$8 - 7 = \dots$

$2 + 8 = \dots$

$10 - 6 = \dots$

$2 + 2 = \dots$

$3 - 1 = \dots$

Bài 3 (3 điểm):

a) Cho các số 5, 1, 6. Sắp xếp các số theo thứ tự từ bé đến lớn.

b) Điền dấu $<$, $>$, $=$ thích hợp vào chỗ chấm:

$2 + 2 \dots 5$

$9 - 3 \dots 4$

$1 + 3 \dots 2 + 2$

$8 - 6 \dots 5 - 3$

Bài 4 (2 điểm): Điền số thích hợp vào chỗ chấm:


Trên hình vẽ có:

....hình chữ nhật


....hình vuông

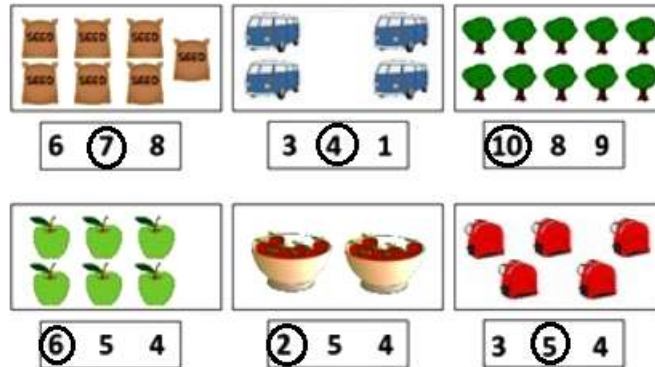
....hình tròn

....hình tam giác



Bài 5 (1 điểm): Dựa vào hình vẽ, viết phép tính thích hợp:



Đáp án Đề thi học kì 1 môn Toán lớp 1 – Đề số 4
Bài 1:

Bài 2:

$3 + 6 = 9$

$5 - 2 = 3$

$4 + 2 = 6$

$8 - 7 = 1$

$2 + 8 = 10$

$10 - 6 = 4$

$2 + 2 = 4$

$3 - 1 = 2$

Bài 3:

a) Sắp xếp: 1, 5, 6.

b)

$2 + 2 < 5$

$9 - 3 > 4$

$1 + 3 = 2 + 2$

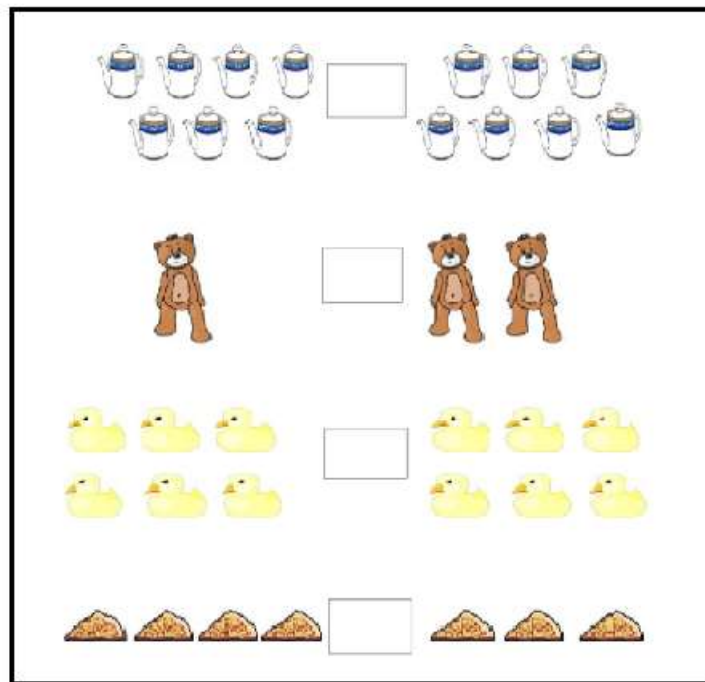
$8 - 6 = 5 - 3$

Bài 4:

Trên hình vẽ có: 4 hình chữ nhật; 7 hình vuông; 7 hình tròn; 4 hình tam giác.

Bài 5:

 Phép tính thích hợp: $3 + 3 = 6$

Đề thi học kì 1 lớp 1 môn Toán sách Kết nối**năm học 2020 - 2021 Đề số 5***Bản quyền thuộc về GiaiToan.**Nghiêm cấm mọi hình thức sao chép nhằm mục đích thương mại.***Đề thi học kì 1 môn Toán lớp 1 – Đề số 5****Bài 1 (2 điểm):** Điền dấu $<$, $>$, $=$ thích hợp vào ô trống:**Bài 2 (2 điểm):** Tính nhẩm:

$1 + 3 = \dots$

$2 + 2 = \dots$

$4 + 0 = \dots$

$3 + 1 = \dots$

$7 - 5 = \dots$

$6 - 4 = \dots$

$8 - 6 = \dots$

$10 - 8 = \dots$

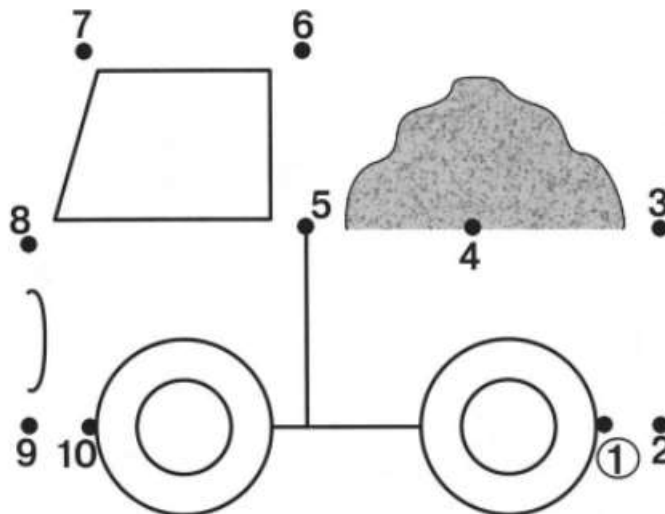
Bài 3 (2 điểm): Nói:

$3 + 4$	$6 - 0$	$10 - 2$
7	6	8
$1 + 5$	$4 + 4$	$8 - 1$

Bài 4 (2 điểm):

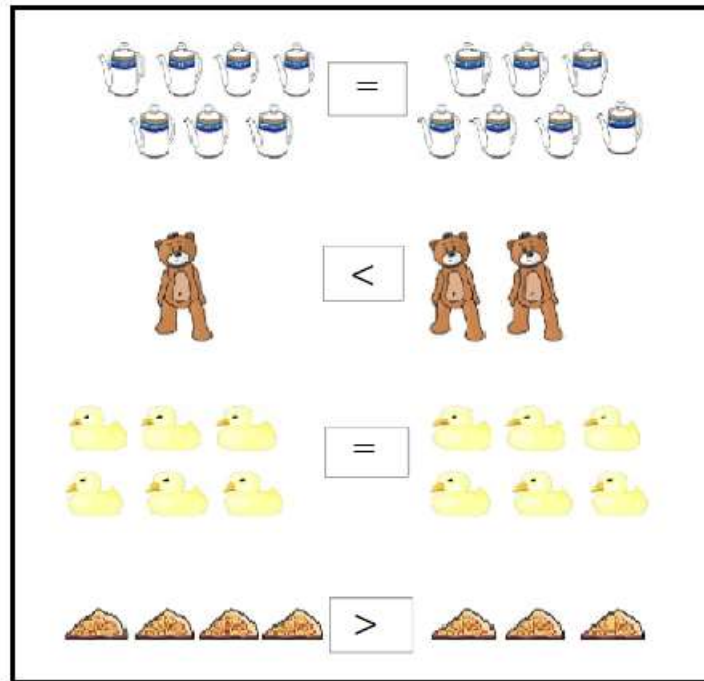
- a) Sắp xếp các số 2, 6, 1 theo thứ tự từ bé đến lớn.
- b) Sắp xếp các số 7, 2, 8 theo thứ tự từ lớn đến bé.

Bài 5 (2 điểm): Nối các số theo thứ tự từ 1 đến 10 để hoàn thiện bức tranh dưới đây:



Đáp án Đề thi học kì 1 môn Toán lớp 1 – Đề số 5

Bài 1:



Bài 2:

$1 + 3 = 4$

$2 + 2 = 4$

$4 + 0 = 4$

$3 + 1 = 4$

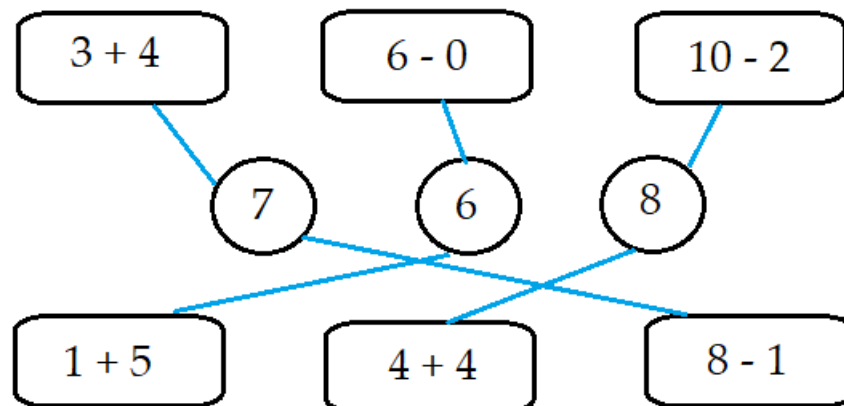
$7 - 5 = 2$

$6 - 4 = 2$

$8 - 6 = 2$

$10 - 8 = 2$

Bài 3:



Bài 4:

a) Sắp xếp: 1, 2, 6.

b) Sắp xếp: 8, 7, 2.

Bài 5: