







Đề thi học kì 1 lớp 1 môn Toán sách Cánh Diều**năm học 2020 - 2021 Đề số 1***Bản quyền thuộc về GiaiToan.**Nghiêm cấm mọi hình thức sao chép nhằm mục đích thương mại.***Đề thi học kì 1 môn Toán lớp 1 – Đề số 1****Bài 1 (2 điểm):** Điền số thích hợp vào ô trống:

	
<input type="text"/>	<input type="text"/>
	
<input type="text"/>	<input type="text"/>
	
<input type="text"/>	<input type="text"/>

Bài 2 (2 điểm): Tính:

$4 + 2 = \dots$

$6 - 5 = \dots$

$2 + 7 = \dots$

$10 - 0 = \dots$

$6 + 1 = \dots$

$9 - 5 = \dots$

$2 + 5 = \dots$

$4 + 4 = \dots$

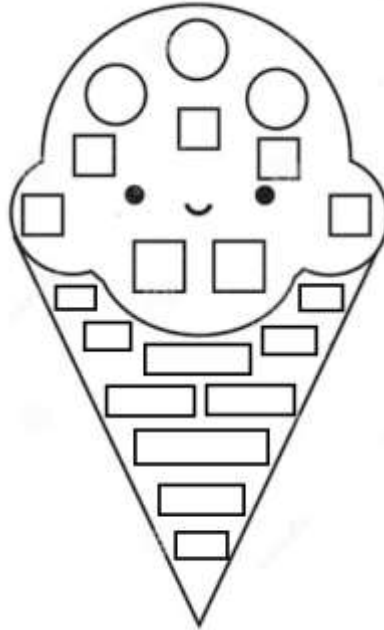
Bài 3 (2 điểm): Điền số thích hợp vào chỗ chấm:

Hình bên có:

...hình chữ nhật

...hình tròn

...hình vuông



Bài 4 (2 điểm): Viết dấu +, - vào chỗ chấm để có các phép tính đúng:

$2 \dots 3 = 5$

$7 \dots 4 = 3$

$2 \dots 2 = 4$

$1 \dots 7 = 8$

$9 \dots 2 = 7$

$5 \dots 1 = 6$

Bài 5 (2 điểm): Nối phép tính thích hợp vào ô trống:

$1 + 2$

$7 - 3$

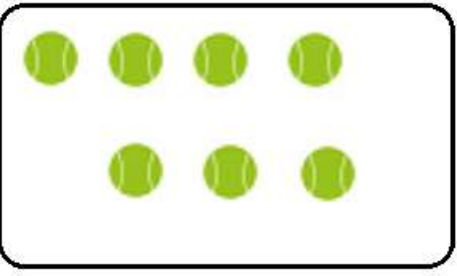
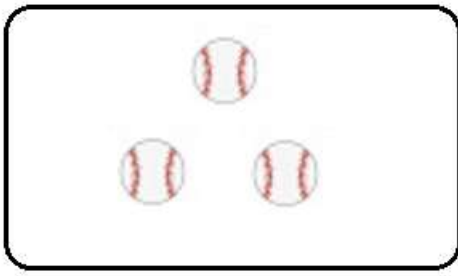

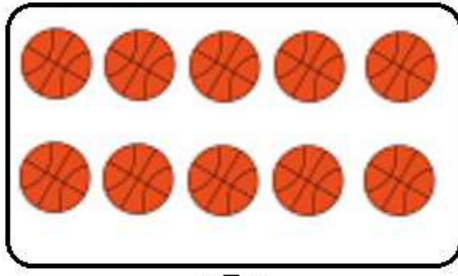
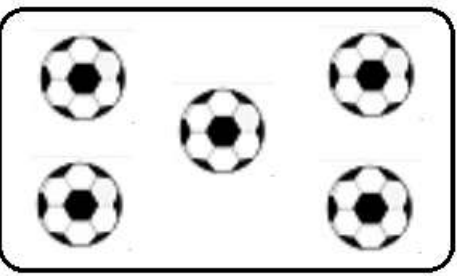
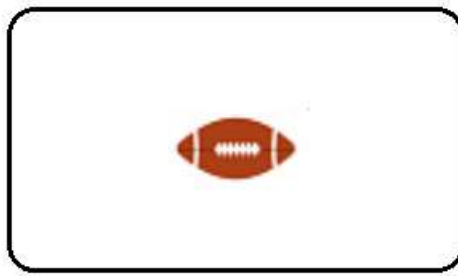
$4 + 5$

$2 + 6$

$10 - 0$

$8 < \square < 10$

Đáp án Đề thi học kì 1 môn Toán lớp 1 – Đề số 1
Bài 1:

	
(7)	(3)
	
(2)	(10)
	
(5)	(1)

Bài 2:

$4 + 2 = 6$

$6 - 5 = 1$

$2 + 7 = 9$

$10 - 0 = 10$

$6 + 1 = 7$

$9 - 5 = 4$

$2 + 5 = 7$

$4 + 4 = 8$

Bài 3:

Hình bên có: 10 hình chữ nhật; 5 hình tròn; 7 hình vuông

Bài 4:

$2 + 3 = 5$

$7 - 4 = 3$

$2 + 2 = 4$

$1 + 7 = 8$

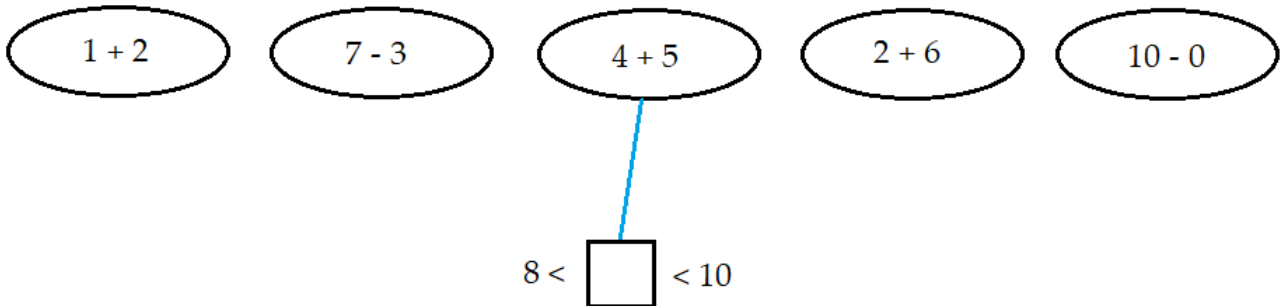
$9 - 2 = 7$

$5 + 1 = 6$

Bài 5:

1 + 2 7 - 3 4 + 5 2 + 6 10 - 0

8 < < 10



Đề thi học kì 1 lớp 1 môn Toán sách Cánh Diều**năm học 2020 - 2021 Đề số 2***Bản quyền thuộc về GiaiToan.**Nghiêm cấm mọi hình thức sao chép nhằm mục đích thương mại.***Đề thi học kì 1 môn Toán lớp 1 – Đề số 2****Bài 1 (2 điểm):** Điền dấu $<$, $>$, $=$ thích hợp vào chỗ chấm:

$3 \dots 7$

$6 \dots 2$

$4 \dots 4$

$1 + 2 \dots 4 - 2$

$3 + 5 \dots 9 - 4$

$3 + 1 \dots 5 + 2$

Bài 2 (2 điểm): Tính:

$2 + 5 = \dots$

$3 + 4 = \dots$

$1 + 1 = \dots$

$6 + 2 = \dots$









$9 - 3 = \dots$

$8 - 5 = \dots$

$7 - 1 = \dots$

$6 - 4 = \dots$

Bài 3 (3 điểm): Điền số thích hợp vào ô trống:

 <input type="text"/>	+	 <input type="text"/>	=	<input type="text"/>
 <input type="text"/>	+	 <input type="text"/>	=	<input type="text"/>
 <input type="text"/>	-	 <input type="text"/>	=	<input type="text"/>
 <input type="text"/>	-	 <input type="text"/>	=	<input type="text"/>

Bài 4 (2 điểm): Viết dấu +, - vào chỗ chấm để có các phép tính đúng:

$1 \dots 1 = 2$

$5 \dots 3 = 2$

$1 \dots 7 = 8$

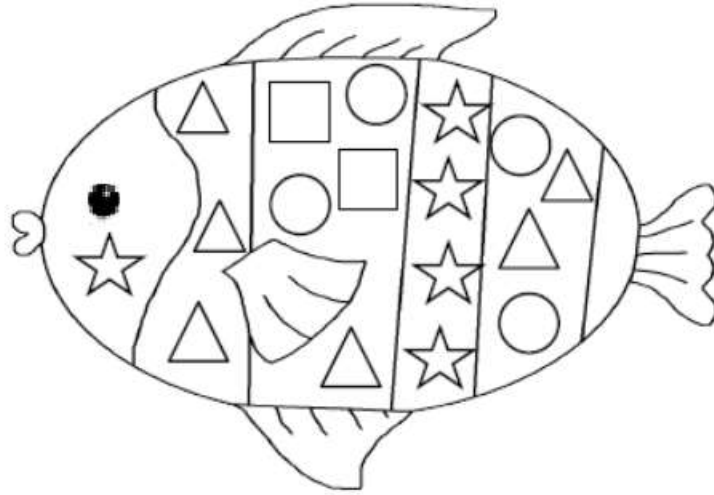
$5 \dots 4 = 1$

$5 \dots 4 = 9$

$6 \dots 2 = 4$

Bài 5 (1 điểm): Điền số thích hợp vào chỗ chấm:

Trong hình vẽ, cóhình tròn vàhình tam giác.



Đáp án Đề thi học kì 1 môn Toán lớp 1 – Đề số 2
Bài 1:

$3 < 7$

$6 > 2$

$4 = 4$

$1 + 2 > 4 - 2$

$3 + 5 > 9 - 4$

$3 + 1 < 5 + 2$

Bài 2:

$2 + 5 = 7$

$3 + 4 = 7$

$1 + 1 = 2$

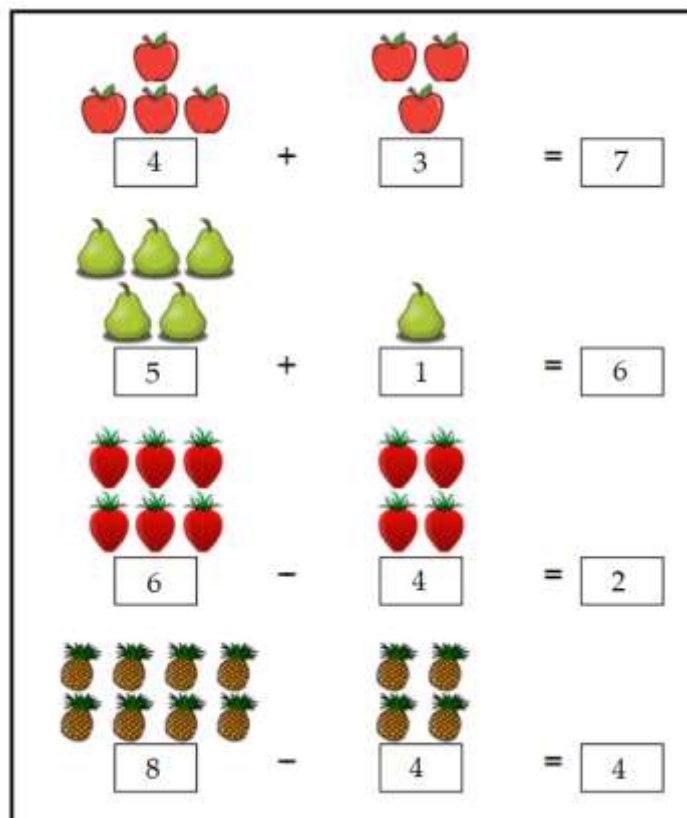
$6 + 2 = 8$









$9 - 3 = 6$

$8 - 5 = 3$

$7 - 1 = 6$

$6 - 4 = 2$

Bài 3:


 4	+	 3	=	7
 5	+	 1	=	6
 6	-	 4	=	2
 8	-	 4	=	4

Bài 4:

$1 + 1 = 2$

$5 - 3 = 2$

$1 + 7 = 8$

$5 - 4 = 1$

$5 + 4 = 9$

$6 - 2 = 4$

Bài 5:

Trong hình vẽ, có 5 hình tròn và 6 hình tam giác.

GIAITOAN

Đề thi học kì 1 lớp 1 môn Toán sách Cánh Diều

năm học 2020 - 2021 Đề số 3

Bản quyền thuộc về GiaiToan.

Nghiêm cấm mọi hình thức sao chép nhằm mục đích thương mại.

Đề thi học kì 1 môn Toán lớp 1 – Đề số 3


Bài 1 (2 điểm): Khoanh vào số thích hợp:




5 6 7 8 9



5 6 7 8 9



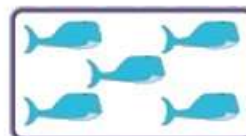
5 6 7 8 9



5 6 7 8 9




5 6 7 8 9



5 6 7 8 9



5 6 7 8 9



5 6 7 8 9

Bài 2 (2 điểm): Tính:

$6 + 2 = \dots$

$3 + 5 = \dots$

$1 + 7 = \dots$

$9 - 1 = \dots$

$2 + 3 = \dots$

$6 - 1 = \dots$

$9 - 4 = \dots$

$7 - 2 = \dots$

Bài 3 (2 điểm): Điền số thích hợp vào chỗ chấm để được phép tính đúng:

$3 + \dots = 7$

$\dots + 2 = 4$

$9 - \dots = 6$

$1 + \dots = 5$

$6 - \dots = 3$


$1 + \dots = 1$

Bài 4 (2 điểm): Nối mỗi phép tính với kết quả đúng:

	$2 + 2$	$1 + 6$	
3	$1 + 0$	$9 - 1$	7
2	$7 - 5$	$10 - 5$	6
4	$1 + 2$	$4 + 2$	5

Bài 5 (2 điểm): Viết các phép cộng có kết quả bằng 8 từ các số 1, 4, 6, 7, 2 (theo mẫu):


Mẫu: $1 + 7 = 8$

Đáp án Đề thi học kì 1 môn Toán lớp 1 – Đề số 3
Bài 1:



5 6 7 8 9



5 6 7 8 9




5 6 7 8 9



5 6 7 8 9



5 6 7 8 9



5 6 7 8 9



5 6 7 8 9



5 6 7 8 9

Bài 2:

$6 + 2 = 8$

$3 + 5 = 8$

$1 + 7 = 8$

$9 - 1 = 8$

$2 + 3 = 5$

$6 - 1 = 5$

$9 - 4 = 5$

$7 - 2 = 5$

Bài 3:

$3 + 4 = 7$

$2 + 2 = 4$

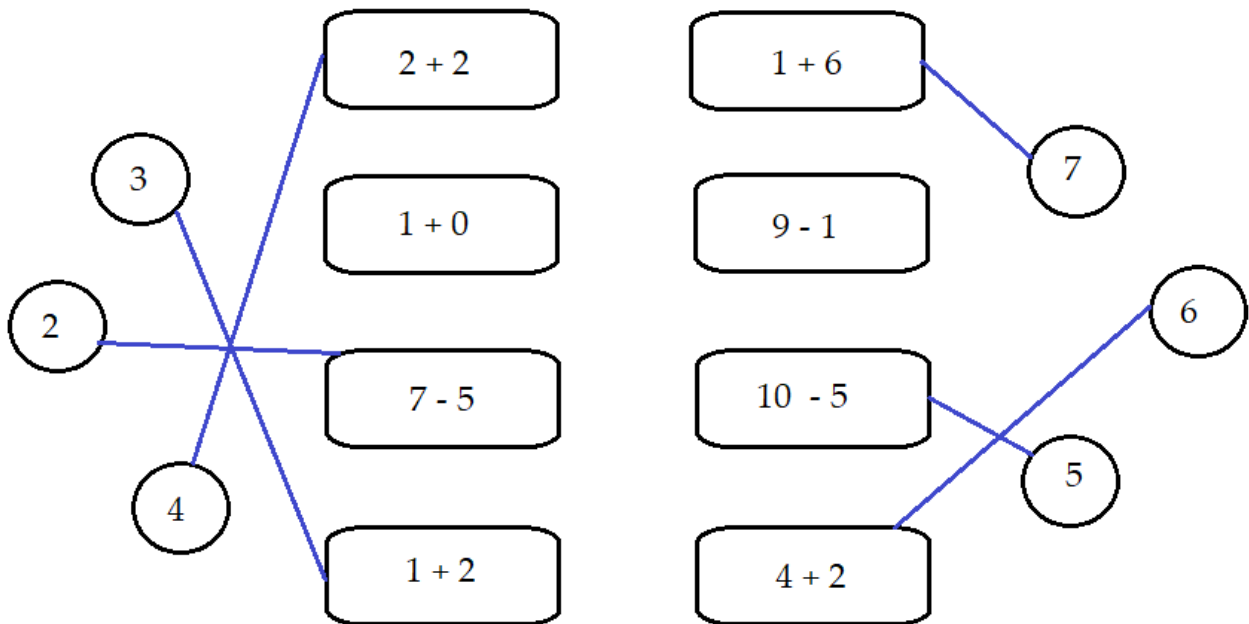
$9 - 3 = 6$

$1 + 4 = 5$

$6 - 3 = 3$

$1 + 0 = 1$

Bài 4:


Bài 5:

Các phép cộng có kết quả bằng 8 từ các số 1, 4, 6, 7, 2 là:

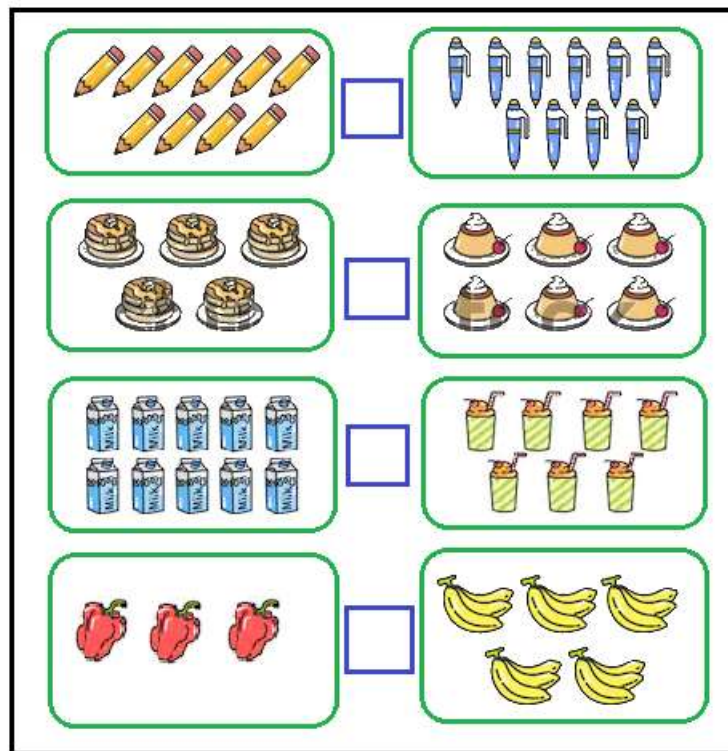
$1 + 7 = 8$

$7 + 1 = 8$


$4 + 4 = 8$

$2 + 6 = 8$

$6 + 2 = 8$

Đề thi học kì 1 lớp 1 môn Toán sách Cánh Diều**năm học 2020 - 2021 Đề số 4***Bản quyền thuộc về GiaiToan.**Nghiêm cấm mọi hình thức sao chép nhằm mục đích thương mại.***Đề thi học kì 1 môn Toán lớp 1 – Đề số 4****Bài 1 (2 điểm):** Điền dấu $<$, $>$, $=$ thích hợp vào ô trống:**Bài 2 (3 điểm):** Dựa vào hình vẽ, viết phép tính thích hợp và tính:

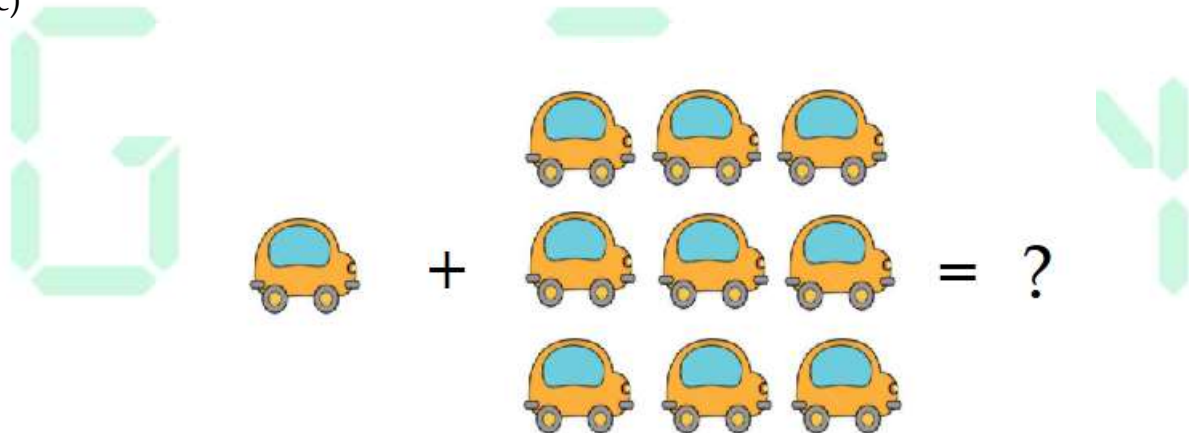
a)



b)



c)



Bài 3 (2 điểm): Cho các số 4, 2, 7, 9. Hãy:

a) Sắp xếp các số theo thứ tự từ bé đến lớn.

b) Sắp xếp các số theo thứ tự từ lớn đến bé.

Bài 4 (2 điểm): Điền số thích hợp vào chỗ chấm:

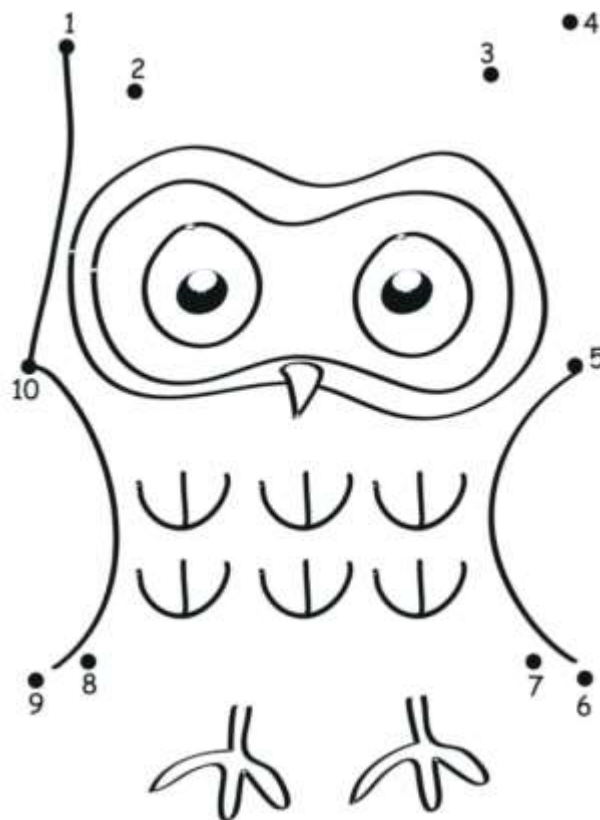
Hình bên có:

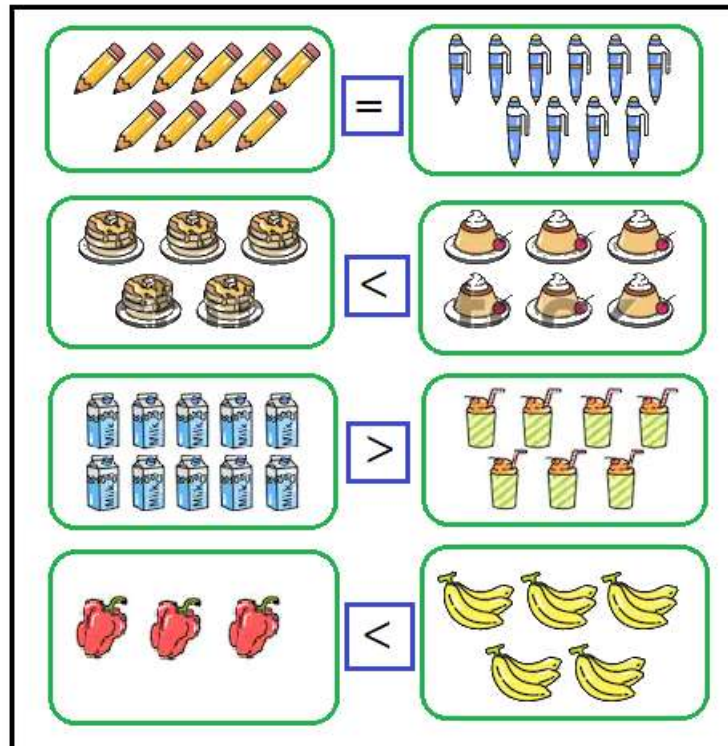
....khối hình lập phương

....khối hộp chữ nhật



Bài 5 (1 điểm): Nối các số từ 1 đến 10 để hoàn thiện bức tranh:



Đáp án Đề thi học kì 1 môn Toán lớp 1 – Đề số 4
Bài 1:

Bài 2:

- a) $5 + 2 = 7$
- b) $4 - 2 = 2$
- c) $1 + 9 = 10$


Bài 3:

- a) Sắp xếp các số theo thứ tự từ bé đến lớn: 2, 4, 7, 9.
- b) Sắp xếp các số theo thứ tự từ lớn đến bé: 9, 7, 4, 2.

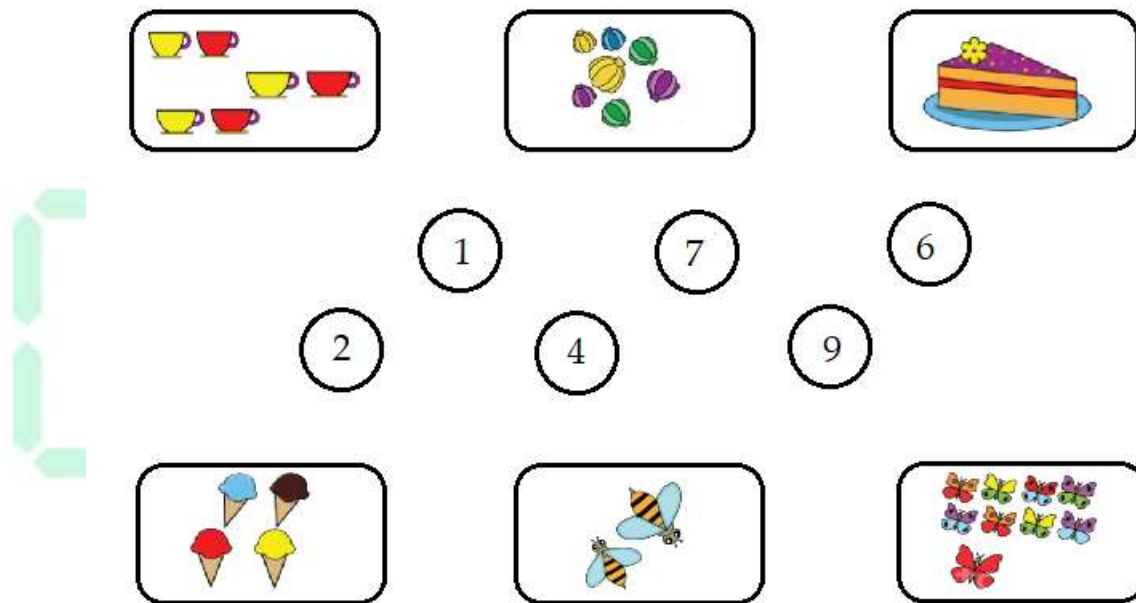
Bài 4:

Hình bên có: 7 khối hình lập phương và 5 khối hộp chữ nhật.

Bài 5:



GIAITOAN

Đề thi học kì 1 lớp 1 môn Toán sách Cánh Diều**năm học 2020 - 2021 Đề số 5***Bản quyền thuộc về GiaiToan.**Nghiêm cấm mọi hình thức sao chép nhằm mục đích thương mại.***Đề thi học kì 1 môn Toán lớp 1 – Đề số 5****Bài 1 (2 điểm):** Nối:

1

2

3

4

5

6

7

8

9

Bài 2 (2 điểm): Tính nhẩm:

$1 + 2 = \dots$

$3 + 5 = \dots$

$2 + 6 = \dots$

$5 - 1 = \dots$

$8 - 4 = \dots$

$10 - 9 = \dots$

Bài 3 (3 điểm):a) Điền dấu $<$, $>$, $=$ thích hợp vào chỗ chấm:

$1 \dots 5$

$6 \dots 2$

$1 + 4 \dots\dots 3 + 5$

$2 + 2 \dots\dots 9 - 5$

b) Cho các số 4, 6, 1, 3. Hãy sắp xếp các số theo thứ tự từ bé đến lớn.

Bài 4 (2 điểm): Điền số thích hợp vào chỗ chấm:

Hình bên có:

....hình tròn.

....hình chữ nhật.

....hình vuông.


....hình tam giác.

GIA



Bài 5 (1 điểm): Điền số thích hợp vào ô trống:

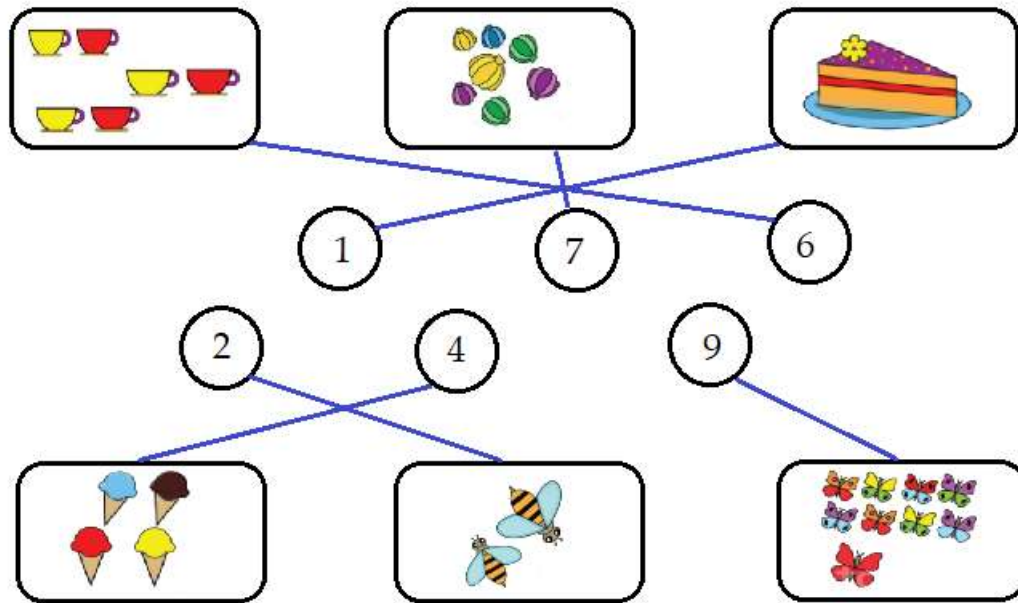
a)



b)


$$6 - 4 = \square$$

GIAITOAN

Đáp án Đề thi học kì 1 môn Toán lớp 1 – Đề số 5
Bài 1:

Bài 2:

$1 + 2 = 3$

$3 + 5 = 8$

$2 + 6 = 8$

$5 - 1 = 4$

$8 - 4 = 4$

$10 - 9 = 1$

Bài 3:

a)

$1 < 5$

$6 > 2$

$1 + 4 < 3 + 5$

$2 + 2 = 9 - 5$



b) Sắp xếp các số theo thứ tự từ bé đến lớn: 1, 3, 4, 6.

Bài 4:



Hình bên có: 5 hình tròn, 5 hình chữ nhật, 5 hình vuông và 7 hình tam giác.

Bài 5:

a)

 +  =

b)

 -  =

GIAITOAN