



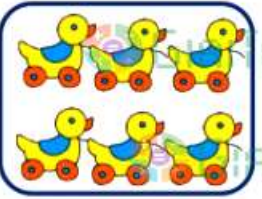






Đề thi học kì 1 lớp 1 môn Toán sách Chân trời

năm học 2020 - 2021 Đề số 1

*Bản quyền thuộc về GiaiToan.**Nghiêm cấm mọi hình thức sao chép nhằm mục đích thương mại.*

Đề thi học kì 1 môn Toán lớp 1 – Đề số 1

Bài 1 (2 điểm): Điền số thích hợp vào ô trống:

 <input type="text"/>	 <input type="text"/>	 <input type="text"/>
 <input type="text"/>	 <input type="text"/>	 <input type="text"/>
 <input type="text"/>	 <input type="text"/>	 <input type="text"/>

Bài 2 (2 điểm): Tính nhẩm:

$3 + 2 = \dots$

$5 + 4 = \dots$

$2 + 1 = \dots$

$6 + 0 = \dots$

$8 - 5 = \dots$

$9 - 3 = \dots$

$6 - 2 = \dots$

$5 - 1 = \dots$

Bài 3: Điền dấu $>$, $<$, $=$ thích hợp vào chỗ chấm:

$5 \dots 4$

$7 \dots 8$

$6 \dots 2$

$9 - 4 \dots 5$

$7 + 1 \dots 8$

$1 + 2 \dots 9 - 2$

Bài 4 (2 điểm):

a) Điền số thích hợp vào chỗ chấm:

0, ..., ..., ..., 4, 5, 6, ..., ..., ..., 10.

b) Sắp xếp các số 5, 1, 7, 2 theo thứ tự từ bé đến lớn.

c) Sắp xếp các số 4, 0, 9, 3 theo thứ tự từ lớn đến bé.

Bài 5 (2 điểm): Trong mỗi câu hỏi dưới đây, các em hãy đánh dấu vào câu đúng:

1. Hình nào dưới đây là hình tam giác?




2. Hình nào dưới đây là hình vuông?



3. Hình nào dưới đây là hình tròn?



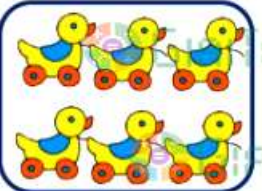








4. Hình nào dưới đây là hình chữ nhật?



GIAITOAN

Đáp án Đề thi học kì 1 môn Toán lớp 1 – Đề số 1
Bài 1:

		
8	4	6
		
5	3	7
		
9	10	2

Bài 2:

$3 + 2 = 5$

$5 + 4 = 9$

$2 + 1 = 3$

$6 + 0 = 6$

$8 - 5 = 3$

$9 - 3 = 6$

$6 - 2 = 4$

$5 - 1 = 4$

Bài 3:

$5 > 4$

$7 < 8$

$6 > 2$

$9 - 4 = 5$

$7 + 1 = 8$

$1 + 2 < 9 - 2$

Bài 4

a) 0, 1, 2, 3, 4, 5, 6, 7, 8, 9, 10.

b) Sắp xếp: 1, 2, 5, 7.

c) Sắp xếp: 9, 4, 3, 0.

Bài 5:

1.



2.



3.



4.

