










**Đề thi học kì 1 lớp 1 môn Toán sách Cánh Diều****năm học 2021 - 2022 Đề số 1***Bản quyền thuộc về GiaiToan**Nghiêm cấm mọi hình thức sao chép nhằm mục đích thương mại.***Đề thi học kì 1 môn Toán lớp 1 – Đề số 1****Bài 1 (2 điểm):** Nối các số vào hình vẽ thích hợp:

<b>1</b> Một		<b>a</b>
<b>2</b> Hai		<b>b</b>
<b>3</b> Ba		<b>c</b>
<b>4</b> Bốn		<b>d</b>
<b>5</b> Năm		<b>e</b>
<b>6</b> Sáu		<b>g</b>
<b>7</b> Bảy		<b>h</b>
<b>8</b> Tám		<b>i</b>
<b>9</b> Chín		<b>k</b>
<b>10</b> Mười		<b>m</b>

**Bài 2 (2 điểm):** Tính:

$2 + 3 = \dots$

$1 + 6 = \dots$

$5 + 2 = \dots$

$4 + 1 = \dots$

$9 - 2 = \dots$

$8 - 7 = \dots$

$5 - 3 = \dots$

$7 - 4 = \dots$

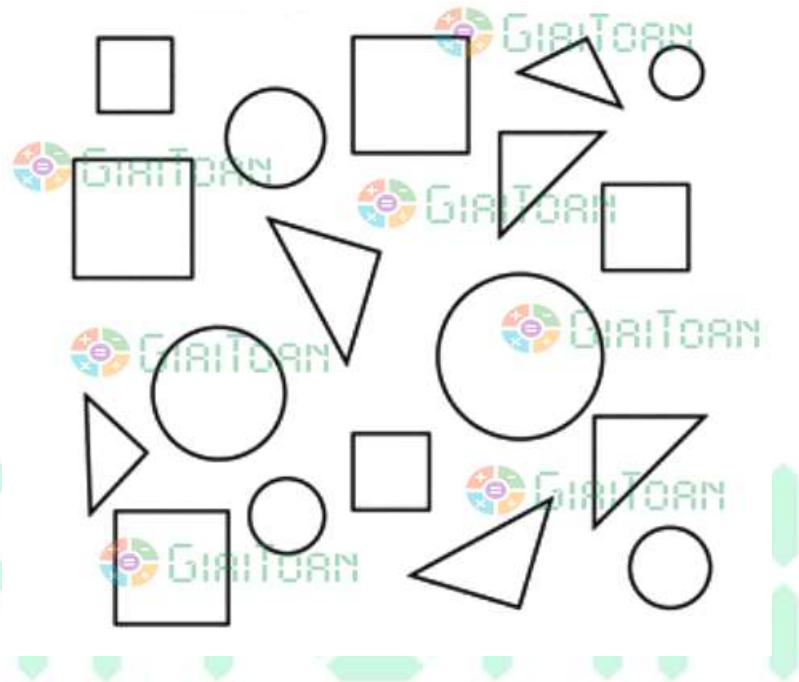
**Bài 3 (2 điểm):** Điền số thích hợp vào chỗ chấm:

Hình bên có:

...hình tam giác

...hình tròn

...hình vuông



**Bài 4 (2 điểm):** Viết dấu +, - vào chỗ chấm để có các phép tính đúng:

$1 \dots 4 = 5$

$9 \dots 5 = 4$

$3 \dots 1 = 2$

$6 \dots 3 = 9$

$8 \dots 1 = 7$

$7 \dots 1 = 8$

**Bài 5 (2 điểm):**

a) Từ ba chữ số 1, 6, 2; các em hãy lập các số có hai chữ số.

b) Trong các số vừa lập được, em hãy tìm số lớn nhất và số bé nhất.

**Đáp án Đề thi học kì 1 môn Toán lớp 1 – Đề số 1****Bài 1:**

$1 - c$

$2 - e$

$3 - h$

$4 - a$

$5 - k$

$6 - i$

$7 - b$

$8 - m$

$9 - d$

$10 - g$

**Bài 2:**

$2 + 3 = 5$

$1 + 6 = 7$

$5 + 2 = 7$

$4 + 1 = 5$

$9 - 2 = 7$

$8 - 7 = 1$

$5 - 3 = 2$

$7 - 4 = 3$

**Bài 3:**

Hình vẽ có: 6 hình tam giác, 6 hình tròn, 6 hình vuông.

**Bài 4:**

$1 + 4 = 5$

$9 - 5 = 4$

$3 - 1 = 2$

$6 + 3 = 9$

$8 - 1 = 7$

$7 + 1 = 8$

**Bài 5:**

a) Các số có hai chữ số được lập từ ba chữ số 1, 6, 2 là: 11, 12, 16, 21, 22, 26, 61, 62, 66.

b) Trong các số vừa lập được, số lớn nhất là 66 và số bé nhất là 11.