

Phiếu bài tập cuối tuần môn Toán lớp 4 – Tuần 9**I. Bài tập cuối tuần môn Toán lớp 4 – Tuần 9****Phần 1: Trắc nghiệm**

Câu 1: Hình vẽ nào dưới đây là hình vẽ hai đường thẳng vuông góc với nhau?

A.



B.



C.



D.



Câu 2: Hình dưới đây có bao nhiêu cặp cạnh song song với nhau?



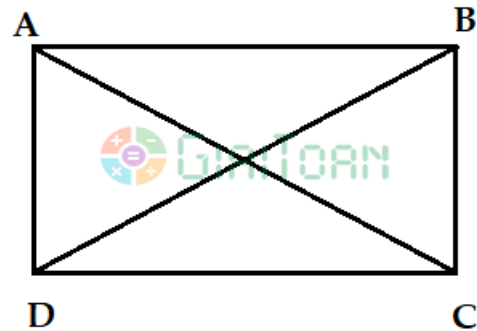
A. 2 cặp

B. 3 cặp

C. 4 cặp

D. 5 cặp


Câu 3: Quan sát hình vẽ và tìm phát biểu đúng trong các phát biểu dưới đây:



- A. Cặp cạnh AC và BD vuông góc với nhau.
- B. Cặp cạnh AB và CD song song với nhau.
- C. Cặp cạnh AD và BC cắt nhau.
- D. Cặp cạnh AB và AC vuông góc với nhau.

Câu 4: Hình nào dưới đây không có các cặp cạnh song song với nhau?

A.



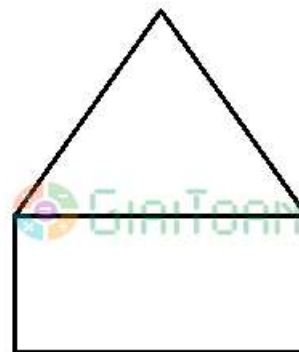
B.



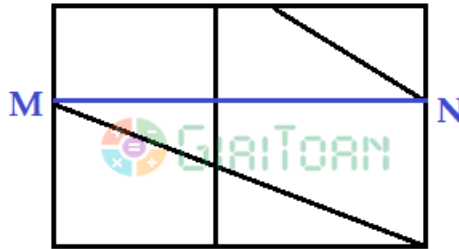
C.



D.



Câu 5: Hình dưới đây có bao nhiêu cạnh vuông góc với cạnh MN?



A. 2 cạnh

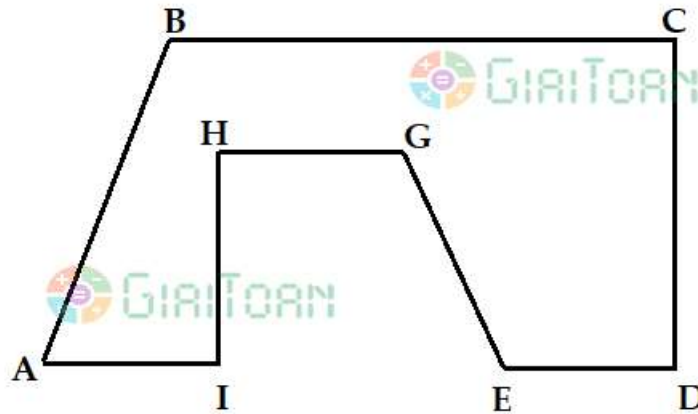
B. 3 cạnh

C. 4 cạnh

D. 5 cạnh

Phần 2: Tự luận

Bài 1: Quan sát hình dưới đây:



a) Tìm các cặp cạnh vuông góc với nhau có trong hình vẽ.

b) Tìm các cặp cạnh song song với nhau có trong hình vẽ.

Bài 2: Cho điểm O nằm trên đoạn thẳng MN. Vẽ đường thẳng AB đi qua điểm O và vuông góc với đoạn thẳng MN. Qua điểm N kẻ đường thẳng xong song với đường thẳng AB.

Bài 3: Vẽ tam giác ABC, sau đó vẽ các đường cao AH, BE, CK của hình tam giác ABC.

Bài 4: Vẽ hình chữ nhật ABCD. Nối đỉnh A với đỉnh C, đỉnh B với đỉnh D.

Bài 5: Vẽ hình vuông MNPQ. Nối đỉnh M với đỉnh P, đỉnh N với đỉnh Q.

II. Đáp án bài tập cuối tuần môn Toán lớp 4 – Tuần 9

Phần 1: Trắc nghiệm

Câu 1: C

Câu 2: A

Câu 3: B

Câu 4: A

Câu 5: B

Phần 2: Tự luận

Bài 1:

a) Cặp cạnh IA và IH vuông góc với nhau.

Cặp cạnh HI và HG vuông góc với nhau.

Cặp cạnh DE và DC vuông góc với nhau.

Cặp cạnh CD và CB vuông góc với nhau

b) Cặp cạnh AI và HG song song với nhau.

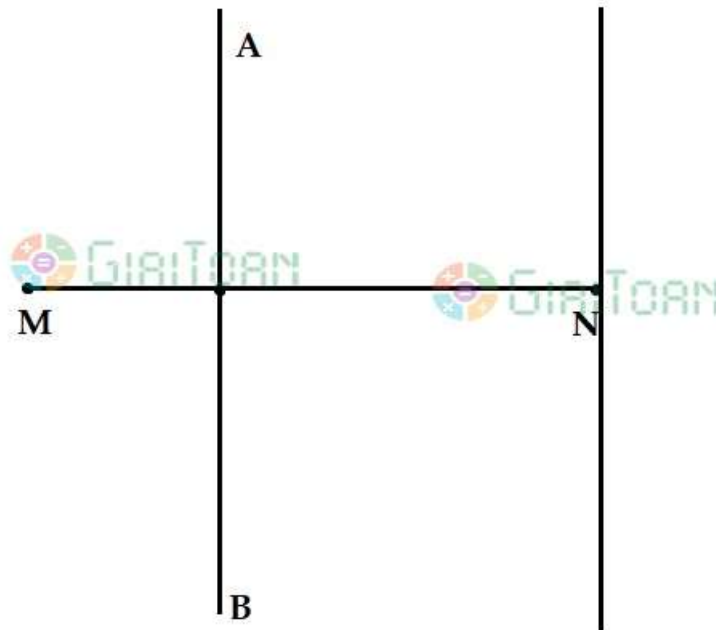
Cặp cạnh AI và BC song song với nhau.

Cặp cạnh ED và HG song song với nhau.

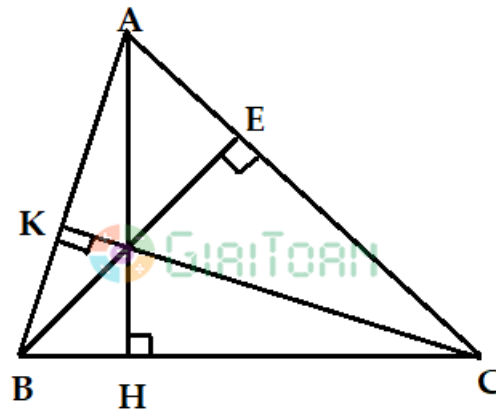
Cặp cạnh ED và BC song song với nhau.

Cặp cạnh HG và BC song song với nhau.

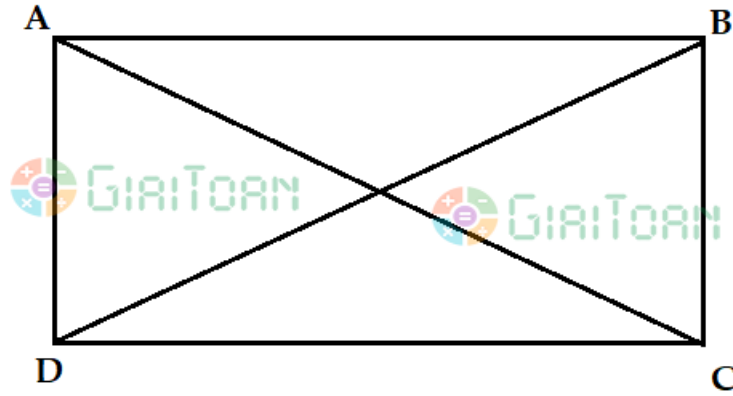
Bài 2:



Bài 3:



Bài 4:



Bài 5:

