

**Phiếu bài tập cuối tuần môn Toán lớp 2 sách Chân trời – Tuần 6****I. Bài tập cuối tuần môn Toán lớp 2 – Tuần 6****Bài 1:** Viết số thích hợp vào chỗ chấm:

$7 + 6 = 7 + \dots + 4$

$6 + 8 = 6 + 5 + \dots$

$9 + 4 = 5 + \dots + 4$

$6 + \dots = 6 + 1 + 5$

$4 + \dots = 4 + 5 + 2$

$3 + \dots = 3 + 2 + 7$

**Bài 2:** Tính nhẩm:

$5 + 7$

$6 + 8$

$9 + 3$

$4 + 8$

$9 + 9$

$2 + 9$

$7 + 7$


$6 + 6$

**Bài 3:** Nhà Lan có 8 con lợn, mẹ mua thêm 3 con nữa. Hỏi nhà Lan có tất cả bao nhiêu con lợn?**Bài 4:** Viết các đọc tên các đoạn thẳng, đường thẳng dưới đây:


a)




b)



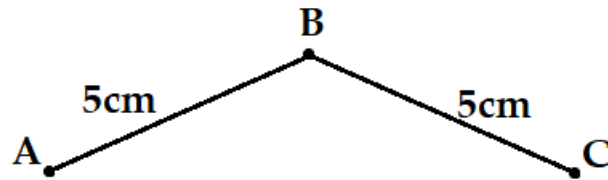
c)



d)

**Bài 5:**

a) Quan sát hình vẽ và viết vào chỗ chấm:



Đường gấp khúc ABC gồm ... đoạn thẳng.

Đoạn thẳng AB dài ...

Đoạn thẳng BC dài ...

b) Tính độ dài đường gấp khúc ABC.

GIAITOAN

## II. Đáp án bài tập cuối tuần môn Toán lớp 2 – Tuần 6

### Bài 1:

$$7 + 6 = 7 + 2 + 4$$

$$6 + 8 = 6 + 5 + 3$$

$$9 + 4 = 5 + 4 + 4$$

$$6 + 6 = 6 + 1 + 5$$

$$4 + 7 = 4 + 5 + 2$$

$$3 + 9 = 3 + 2 + 7$$

### Bài 2:

$$5 + 7 = 12$$

$$6 + 8 = 14$$

$$9 + 3 = 12$$

$$4 + 8 = 12$$

$$9 + 9 = 18$$

$$2 + 9 = 11$$

$$7 + 7 = 14$$

$$6 + 6 = 12$$

### Bài 3:

**Phép tính:**  $8 + 3 = 11$

**Trả lời:** Nhà Lan có tất cả 11 con lợn.

### Bài 4:

a) Đoạn thẳng AB.

b) Đường thẳng CD.

c) Đoạn thẳng GH.

d) Đường thẳng IK.

### Bài 5:

a) Đường gấp khúc ABC gồm 2 đoạn thẳng.

Đoạn thẳng AB dài 5 cm.

Đoạn thẳng BC dài 5 cm.

b) Phép tính:  $5 + 5 = 10$

Trả lời: Đường gấp khúc ABC dài 10 cm.