

**Phiếu bài tập cuối tuần môn Toán lớp 2 sách Kết nối – Tuần 4****I. Bài tập cuối tuần môn Toán lớp 2 – Tuần 4****Bài 1: Tính:**

$9 + 2$

$7 + 5$

$6 + 6$

$8 + 3$

$7 + 7$

$4 + 9$

**Bài 2: Số?**

	6	7	3	8	9	4	2
+	7	8	9	5	2	7	9

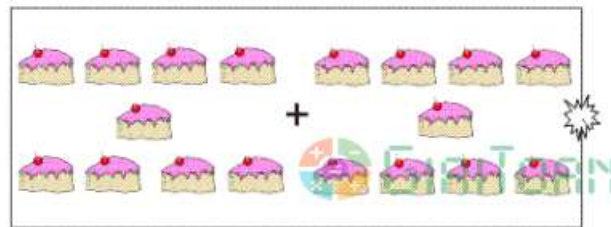
**Bài 3: Tính:**

$6 + 2 + 7$

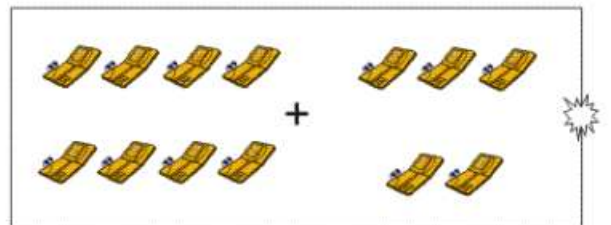
$8 + 4 + 3$

$9 + 5 + 1$

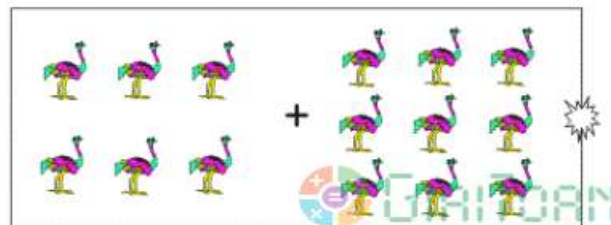
**Bài 4: Số****Bài 5: Nối:**



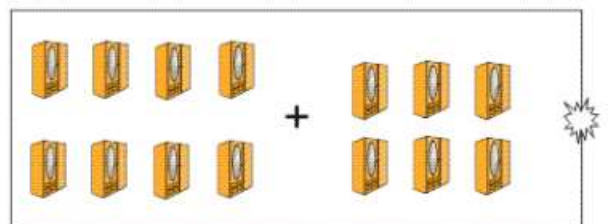
14



18



13



15

**Bài 6:** Bạn Hùng có 7 quả bóng và bạn Minh có 8 quả bóng. Hỏi hai bạn có tất cả bao nhiêu quả bóng?

**II. Đáp án bài tập cuối tuần môn Toán lớp 2 – Tuần 4****Bài 1:**

$9 + 2 = 11$

$7 + 5 = 12$

$6 + 6 = 12$

$8 + 3 = 11$

$7 + 7 = 14$

$4 + 9 = 13$

**Bài 2:**

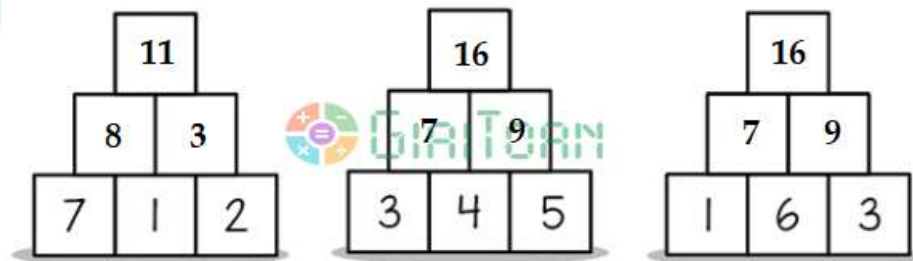
	6	7	3	8	9	4	2
+	7	8	9	5	2	7	9
	13	15	12	13	11	11	11

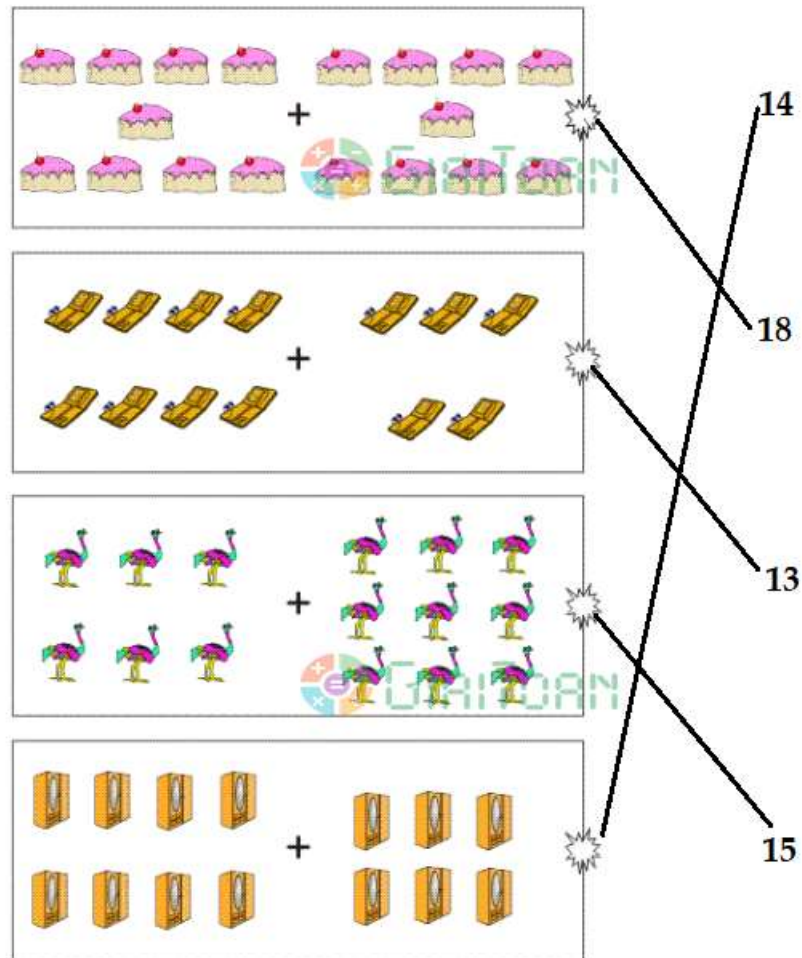
**Bài 3:**

$6 + 2 + 7 = 8 + 7 = 15$

$8 + 4 + 3 = 12 + 3 = 15$

$9 + 5 + 1 = 14 + 1 = 15$

**Bài 4:****Bài 5: Nối:**


**Bài 6:**

Số quả bóng hai bạn có tất cả là:

$$7 + 8 = 15 \text{ (quả)}$$

Đáp số: 15 quả bóng.