

Phiếu bài tập cuối tuần môn Toán lớp 2 sách Cánh Diều – Tuần 4

I. Bài tập cuối tuần môn Toán lớp 2 – Tuần 4

Bài 1: Tính:

$4 + 7$

$5 + 6$

$8 + 5$

$9 + 3$

$6 + 6$

$4 + 8$

Bài 2: Điền số thích hợp vào ô trống:

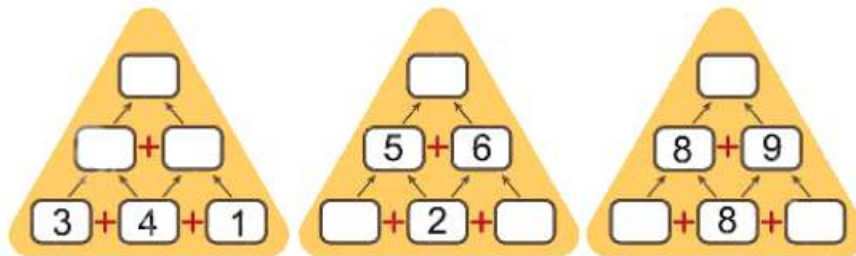
 +  =

 +  =

 +  =

 +  =

Bài 3: Điền số thích hợp vào chỗ trống:



Bài 4: >, <, =?

$5 + 9 \dots 7$

$6 + 7 \dots 8 + 8$

$9 + 1 \dots 9 + 2$

$8 + 5 \dots 7 + 4$

$6 + 6 \dots 8 + 4$

$7 + 5 \dots 9 + 3$

Bài 5: Lan có 7 quả táo và 8 quả xoài. Hỏi Lan có tất cả bao nhiêu quả xoài và quả táo?

GIAITOAN

II. Đáp án bài tập cuối tuần môn Toán lớp 2 – Tuần 4
Bài 1:

$4 + 7 = 11$

$5 + 6 = 11$



$8 + 5 = 13$



$9 + 3 = 12$

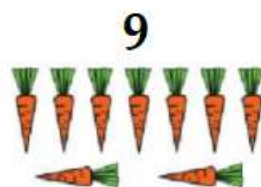

$6 + 6 = 12$



$4 + 8 = 12$

Bài 2:

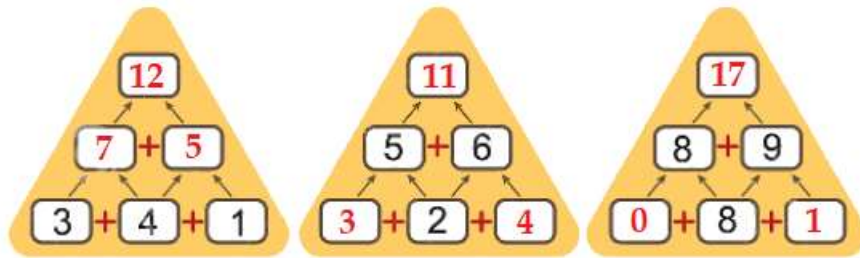

 6

 9
 $+$
 $=$


 9

 9
 $+$
 $=$


 9

 7
 $+$
 $=$


 6

 6
 $+$
 $=$

Bài 3:

**Bài 4:**

$5 + 9 > 7$

$6 + 7 < 8 + 8$

$9 + 1 < 9 + 2$

$8 + 5 > 7 + 4$

$6 + 6 = 8 + 4$

$7 + 5 = 9 + 3$

Bài 5:

Phép tính: $7 + 8 = 15$

Trả lời: Lan có tất cả 15 quả xoài và táo.

GIAITOAN