

Phiếu bài tập cuối tuần môn Toán lớp 2 sách Cánh Diều – Tuần 3**I. Bài tập cuối tuần môn Toán lớp 2 – Tuần 3****Bài 1:**

a) Nêu số liền trước của các số sau: 48; 16; 7; 59.

b) Nêu số liền sau của các số sau: 19; 0; 66; 91.

c) So sánh các số dưới đây:

$43 \dots 24$

$5 \dots 12$

$75 \dots 75$

Bài 2:

a) Tìm tổng biết các số hạng lần lượt là 15 và 22.

b) Tìm hiệu biết số bị trừ là 17 và số trừ là 4.

Bài 3:

a) Tính:

$10 + 4$

$10 + 5$

$10 + 2$

b) Tính nhẩm:

$3 + 7 + 1$

$4 + 6 + 6$

$9 + 1 + 8$

Bài 4:

a) Tính:

$5 + 7$

$8 + 8$

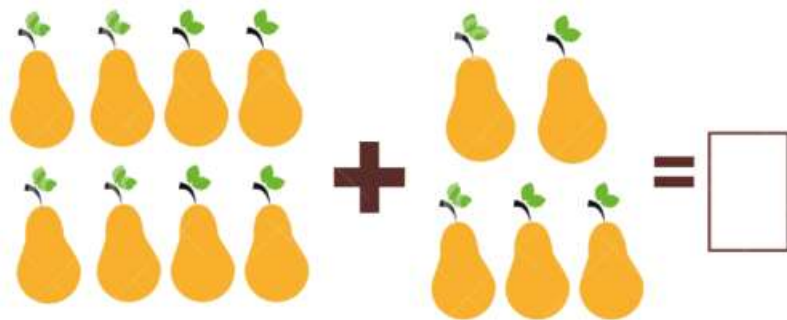

$9 + 3$

$7 + 6$

$4 + 8$

$6 + 9$

b) Điền số thích hợp vào ô trống:



Bài 5: Sợi dây thứ nhất dài 5 dm, sợi dây thứ hai dài 6 dm. Hỏi hai sợi dây dài tất cả bao nhiêu đề-xi-mét?

II. Đáp án bài tập cuối tuần môn Toán lớp 2 – Tuần 3**Bài 1:**

a) Số liền trước của số 48 là 47.

Số liền trước của số 16 là 15.

Số liền trước của số 7 là 6.

Số liền trước của số 59 là 58.

b) Số liền sau của số 19 là 20.

Số liền sau của số 0 là 1.

Số liền sau của số 66 là 67.

Số liền sau của số 91 là 92.

c)

$43 > 24$

$5 < 12$

$75 = 75$

Bài 2:

a) $15 + 22 = 37$

b) $17 - 4 = 3$

Bài 3:

a)

$10 + 4 = 14$

$10 + 5 = 15$

$10 + 2 = 12$

b) $3 + 7 + 1 = 10 + 1 = 11$

$4 + 6 + 6 = 10 + 6 = 16$

$9 + 1 + 8 = 10 + 8 = 18$

Bài 4:

a)

$5 + 7 = 12$

$8 + 8 = 16$


$9 + 3 = 12$

$7 + 6 = 13$

$4 + 8 = 12$



$6 + 9 = 15$



b)


 $+$

 $=$
12


 $+$

 $=$
11


 $+$

 $=$
11


 $+$

 $=$
13

Bài 5:
Phép tính: $5 + 6 = 11$
Trả lời: Hai sợi dây dài tất cả **11 dm**.