

**Phiếu bài tập cuối tuần môn Toán lớp 3 – Tuần 3****I. Bài tập cuối tuần môn Toán lớp 3 – Tuần 3****Phần 1: Trắc nghiệm**

**Câu 1:** Độ dài đường gấp khúc ABC có độ dài các đoạn thẳng  $AB = 35\text{cm}$ ,  $BC = 48\text{cm}$  là:

- A. 83cm                      B. 85cm                      C. 86cm                      D. 89cm

**Câu 2:** Hùng có 25 quyển vở. Mai có nhiều hơn Hùng 5 quyển vở. Mai có số quyển vở là:

- A. 35 quyển vở              B. 30 quyển vở              C. 45 quyển vở              D. 40 quyển vở

**Câu 3:** Bạn Nam có 16 viên bi. Bạn Minh có ít hơn bạn Nam 6 viên bi. Minh có số viên bi là:

- A. 13 viên bi                  B. 12 viên bi                  C. 11 viên bi                  D. 10 viên bi

**Câu 4:** Đồng hồ dưới đây chỉ mấy giờ?



- A. 9 giờ 3 phút              B. 3 giờ 45 phút              C. 9 giờ                      D. 9 giờ 15 phút

**Câu 5:** Đồng hồ dưới đây chỉ mấy giờ?

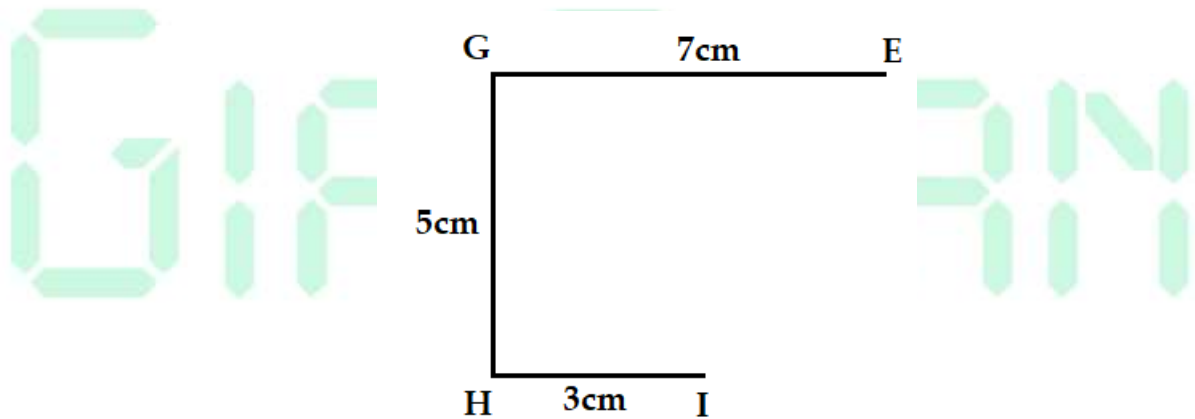


A. 7 giờ 45 phút	B. 6 giờ 9 phút	C. 6 giờ 45 phút	D. 7 giờ 9 phút
------------------	-----------------	------------------	-----------------

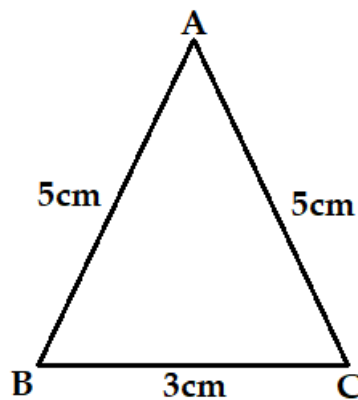
**Phần 2: Tự luận**

**Bài 1:** Tính chu vi của các hình dưới đây:

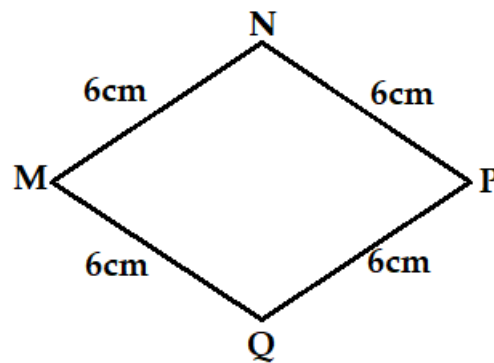
a) Đường gấp khúc EGHI



b) Hình tam giác ABC.



























c) Hình tứ giác MNPQ.



**Bài 2:** Một đoạn dây dài 75cm. Bạn Hoa cắt đi 36cm. Hỏi đoạn dây còn lại dài bao nhiêu xăng-ti-mét?

**Bài 3:** Lớp 3A của một trường tiểu học có 45 học sinh. Lớp 3B có nhiều hơn lớp 3A 9 học sinh. Hỏi lớp 3B có bao nhiêu học sinh?

**Bài 4:** Dựa vào thời khóa biểu một tuần của bạn Hà và trả lời các câu hỏi:

	Thứ hai	Thứ ba	Thứ tư	Thứ năm	Thứ sáu
					
					
					
					

a) Vào thứ hai, bạn Hà học Toán lúc mấy giờ?

b) Vào thứ ba, bạn Hà học Tiếng Việt lúc mấy giờ?

- c) Vào thứ tư, lúc 3 giờ 45 phút, bạn Hà học môn gì?  
d) Vào thứ năm, bạn Hà học Khoa học lúc mấy giờ?  
e) Vào thứ sáu, lúc 2 giờ, bạn Hà học môn gì?

## II. Đáp án bài tập cuối tuần môn Toán lớp 3 – Tuần 3

### Phần 1: Trắc nghiệm

Câu 1: A

Câu 2: B

Câu 3: D

Câu 4: D

Câu 5: C

### Phần 2: Tự luận

#### Bài 1:

a) Chu vi đường gấp khúc EGHI là:

$$7 + 5 + 3 = 15 \text{ (cm)}$$

Đáp số: 15cm.

b) Chu vi tam giác ABC là:

$$5 + 5 + 3 = 13 \text{ (cm)}$$

Đáp số: 13cm.

c) Chu vi tứ giác MNPQ là:

$$6 + 6 + 6 + 6 = 24 \text{ (cm)}$$

Đáp số: 24cm.

#### Bài 2:

Đoạn dây còn lại dài số xăng-ti-mét là:

$$75 - 36 = 39 \text{ (cm)}$$

Đáp số: 39cm.

#### Bài 3:

Lớp 3B có số học sinh là:

$$45 + 9 = 54 \text{ (học sinh)}$$

Đáp số: 54 học sinh.

**Bài 4:**

- a) Vào thứ hai, bạn Hà học Toán lúc 9 giờ.
- b) Vào thứ ba, bạn Hà học Tiếng Việt lúc 2 giờ.
- c) Vào thứ tư, lúc 3 giờ 45 phút, bạn Hà học môn Thể dục.
- d) Vào thứ năm, bạn Hà học Khoa học lúc 10 giờ 30 phút.
- e) Vào thứ sáu, lúc 2 giờ, bạn Hà học môn Toán.

GIAITOAN